

# సాంఘిక శాస్త్రము

## 10వ తరగతి

మాదిరి యూనిట్ ప్రశ్నా పత్రము

(తెలుగు మీడియం)

## మాదిరి యూనిట్ ప్రశ్నా పత్రము

తరగతి : 10 వ

విషయం : సాంఘిక శాస్త్రము

### 1. విద్యా ప్రమాణాల భారత్వ పట్టిక

క్రమ సంఖ్య	విద్యా ప్రమాణములు	ప్రశ్నల సంఖ్య	మార్కులు	శాతము
1.	విషయ అవగాహన	9	10	40
2.	పాఠ్యాంశమును చదివి, అర్థం చేసుకొని వ్యాఖ్యానించటం	2	2½	10
3	సమాచార నైపుణ్యాలు	1	4	16
4	సమకాలీన అంశాలపై ప్రతి స్పందన - ప్రశ్నించుట	3	2½	10
5	పట నైపుణ్యాలు	1	4	16
6	ప్రశంస-సున్నితత్వము	1	2	08
	<b>మొత్తము</b>	<b>17</b>	<b>25</b>	<b>100</b>

### 2. ప్రశ్నల భారత్వ పట్టిక

క్రమ సంఖ్య	ప్రశ్నలు-రకములు	ప్రశ్నల సంఖ్య	మార్కులు	శాతము
1.	వ్యాసరూప ప్రశ్నలు	3	12	48
2.	సంక్షిప్త సమాధాన ప్రశ్నలు	3	6	24
3.	అతి లఘు సమాధాన ప్రశ్నలు	3	3	12
4.	లక్ష్యాత్మక ప్రశ్నలు	8	4	16
	<b>మొత్తం</b>	<b>17</b>	<b>25</b>	<b>100</b>

### 3. విషయ భారత్వ పట్టిక

క్రమ సంఖ్య	విషయము	ప్రశ్నల సంఖ్య	మార్కులు	శాతము
1.	భారతదేశ శీతోష్ణస్థితి	5	7½	30
2.	భారతదేశ నదులు, నీటి వనరులు	5	4½	18
3.	ప్రపంచ యుద్ధాల మధ్య ప్రపంచం (1900-1950) (భాగం-2)	6	9	36
4.	పట నైపుణ్యాలు	1	4	16
	మొత్తం	17	25	100

### 4. కఠినత్వ భారత్వ పట్టిక

క్రమ సంఖ్య	కఠినత్వపు స్థాయి	ప్రశ్నల సంఖ్య	మార్కులు	శాతము
1.	కఠిన ప్రశ్నలు	4	4	16
2.	సాధారణ ప్రశ్నలు	6	14	56
3.	సులభ ప్రశ్నలు	7	7	28
	మొత్తం	17	25	100

మాదిరి యూనిట్ ప్రశ్నాపత్రము - బ్లూ ప్రింట్

తరగతి : 10 వ

విషయము: సాంఘిక శాస్త్రము

క్రమ సంఖ్య	పాఠ్యాంశములు	విద్యా ప్రమాణాలు																				ఓంకారము	విశ్లేషణ	కాలము				
		విషయావగాహన				పా.చ.అ.చే. వ్యాఖ్యానించుట				సమాచార నైపుణ్యాలు				స.అం.ప్ర. ప్రశ్నించుట				పట నైపుణ్యాలు							ప్రశంస- సున్నితత్వం			
		E	S	V	O	E	S	V	O	E	S	V	O	E	S	V	O	E	S	V	O				E	S	V	O
1	భారతదేశ శీతోష్ణస్థితి		1 (2)		2 (½)				1 (½)	1 (4)															5	7½	30	
2	భారతదేశ నదులు, నీటి వనరులు				2 (½)											1 (1)								1 (2)	5	4½	18	
3	ప్రపంచ యుద్ధాల మధ్య ప్రపంచం (1900-1950) భాగం-2	1 (4)		1 (1)	2 (½)		1 (2)									1 (1)									6	9	36	
4																		1 (4)						1	4	16		
	మొత్తం ప్రశ్నలు	1	1	1	6		1		1	1						2	1	1					1	17	25	100		
	మొత్తం మార్కులు	4	2	1	3		2		½	4						2	½	4					2		25			
	శాతము	40				10				16				10				16				8				100		

**యూనిట్ ప్రశ్న పత్రపు విషయవారీ విశ్లేషణ**

క్రమ సంఖ్య	పాఠ్యాంశము	ప్రశ్న రకము	విద్యా ప్రమాణము	కఠిన స్థాయి	ప్రశ్న మార్కులు	ప్రశ్న సంఖ్య
1	భారతదేశ శీతోష్ణస్థితి	సంక్షిప్త	వి.అ.	సాధారణ	2	1
2	భారతదేశ నదులు,నీటి వనరులు	సంక్షిప్త	ప్ర.సు.	సాధారణ	2	2
3	ప్రపంచయుద్ధాల మధ్య...	సంక్షిప్త	పా.చ.వి.	కఠిన	2	3
4	ప్రపంచయుద్ధాల మధ్య...	అతిలఘు	వి.అ.	సాధారణ	1	4
5	ప్రపంచయుద్ధాల మధ్య...	అతిలఘు	స.అం.ప్ర.	సాధారణ	1	5
6	భారతదేశ నదులు,నీటి వనరులు	అతిలఘు	స.అం.ప్ర.	కఠిన	1	6
7	ప్రపంచయుద్ధాల మధ్య...	వ్యాసరూప	వి.అ.	సాధారణ	4	7
8	భారతదేశ-శీతోష్ణస్థితి	వ్యాసరూప	స.నె.	సులభ	4	8
9	భారతదేశ-శీతోష్ణస్థితి	వ్యాసరూప	ప.నె.	సాధారణ	4	9
10	భారతదేశ-శీతోష్ణస్థితి	లక్ష్యాత్మక	వి.అ.	కఠిన	½	10
11	భారతదేశ నదులు,నీటి వనరులు	లక్ష్యాత్మక	వి.అ.	సులభ	½	11
12	భారతదేశ-శీతోష్ణస్థితి	లక్ష్యాత్మక	పా.చ.వి.	సులభ	½	12
13	భారతదేశ నదులు,నీటి వనరులు	లక్ష్యాత్మక	స.అం.ప్ర.	కఠిన	½	13
14	భారతదేశ-శీతోష్ణస్థితి	లక్ష్యాత్మక	వి.అ.	సులభ	½	14
15	ప్రపంచయుద్ధాల మధ్య...	లక్ష్యాత్మక	వి.అ.	సులభ	½	15
16	భారతదేశ నదులు,నీటి వనరులు	లక్ష్యాత్మక	వి.అ.	సులభ	½	16
17	ప్రపంచయుద్ధాల మధ్య...	లక్ష్యాత్మక	వి.అ.	సులభ	½	17

## మాదిరి యూనిట్ ప్రశ్నా పత్రము

విషయము : సాంఘిక శాస్త్రము

తరగతి : 10 వ

సమయం : 1 గం॥

మార్కులు : 25

I. క్రింది ప్రశ్నలకు సరియైన సమాధానములను 4 లేదా 5 వాక్యములలో రాయండి. 3×2=6

1. అడవుల నరికివేత పర్యావరణానికి హాని కల్గిస్తుందని మీరు భావిస్తున్నారా? మీ ప్రాంతంలో అడవులు లేక పోయినాసరే చెట్ల విషయంలో ఏం జరుగుతోంది ?
2. నీటి పరిరక్షణకు సంబంధించి మీ ప్రాంతంలో ప్రజలకు అవగాహన కల్పించడానికి ఏవైనా నాలుగు నినాదాలు తయారు చేయండి ?
3. కింది విషయం చదివి సమాధానములను రాయండి.

“ రష్యా విప్లవం వల్ల ఫ్యూడల్ భూస్వాములు, రాజులు, పెట్టుబడి దారులు వంటి దోపిడి దారులు లేని దేశంగా నిర్మించడానికి ఒక బృహత్కార్యక్రమం ప్రారంభమైంది”

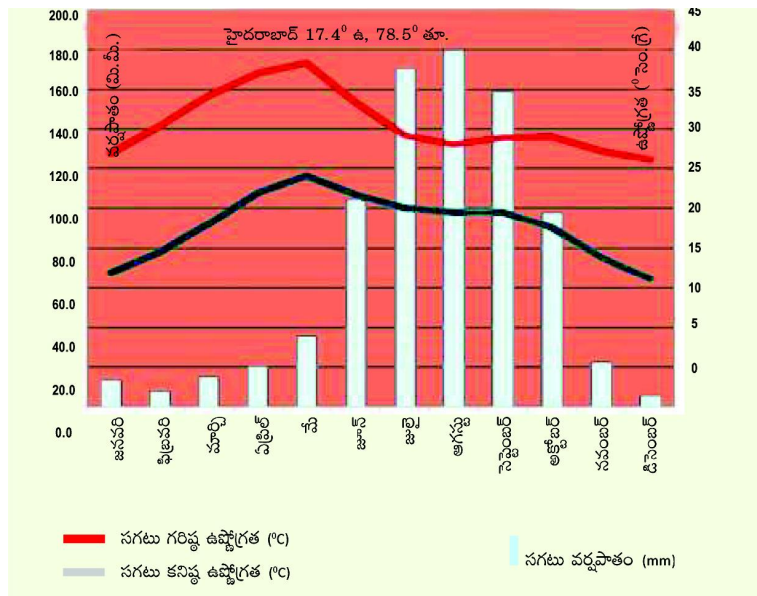
రష్యా విప్లవం తరువాత ప్రభుత్వము భూస్వాముల మరియు పెట్టుబడి దారుల ఆస్తిని స్వాధీనం చేసుకోవటంపై నీ అభిప్రాయం ఏమిటి ?

II. క్రింది ప్రశ్నలకు సమాధానములను ఒకటి లేదా రెండు వాక్యములలో రాయండి. 3×1=3

4. కనీస మద్దతు ధర అంటే ఏమిటి? రైతులు దీనిని ఎందుకు ఆశిస్తారు?
5. స్త్రీలకు కూడా పురుషులతో సమానంగా హక్కులు ఉన్నాయని నిరూపించాలంటే అనుసరించదగిన కార్యక్రమాలను సూచించండి.
6. భూగర్భ జల వనరుల వినియోగం పై పరిమితులు అవసరమా ? ఏవైనా రెండు కారణాలు రాయండి ?

III. క్రింద ఇవ్వబడిన ప్రశ్నలకు 10-15 వాక్యాలలో సమాధానించండి. 3×4=12

7. తీవ్ర ఆర్థికమాంద్యం అంటే ఏమిటి? ఒక దేశం దీనిని ఎదుర్కోవాలంటే ఏమేమి చేయాలో జర్మనీ ఉదంతాన్ని దృష్టిలో ఉంచుకొని వివరించండి.
8. కింది క్లెమోగ్రాఫ్‌లను పరిశీలించి ప్రశ్నలకు జవాబులు రాయండి:



- (i) ఏ నెలలో అత్యధిక వర్షపాతం నమోదయ్యింది?
- (ii) ఏ నెలలలో అత్యల్ప, అత్యధిక ఉష్ణోగ్రతలు నమోదయ్యాయి?
- (iii) జూన్, అక్టోబర్ల మధ్య గరిష్ట వర్షపాతం ఎందుకు సంభవిస్తుంది?
- (iv) మార్చి, మే నెలల మధ్య అత్యధిక ఉష్ణోగ్రత ఎందుకు ఉంటుంది?

9. క్రింద ఇవ్వబడిన అంశాలను భారతదేశ పటంలో గుర్తించండి.

- ఎ) నైఋతి ఋతుపవనాలు మొదటగా ప్రవేశించే రాష్ట్రం.
- బి) గోదావరి నదీ ప్రవాహం.
- సి) అలహాబాదు.
- డి)  $82\frac{1}{2}^{\circ}$  తూర్పు రేఖాంశము.

IV. సరియైన సమాధానమును ఎంపిక చేసుకొని కుండలిలో వ్రాయండి.

8 × ½ = 4

10. అల్ప పీడన ప్రాంతం అనగా .....

( )

- (A) గాలివేడెక్కి పైకి వెళ్లే ప్రాంతం
- (B) అధిక ఉష్ణోగ్రత వల్ల మొత్తం ప్రాంతానికి గాలి వ్యాప్తి చెందటం
- (C) వర్షపాతం లేని శుష్కప్రాంతం
- (D) అత్యధిక వర్షపాతం గల ప్రాంతం

11. చంబల్, సింధ్, చెట్వా, కెన్, సోన్ నదులు ఈ నదీ పరివాహక వ్యవస్థకు చెందినవి.

( )

- (A) సింధు
- (B) బ్రహ్మపుత్ర
- (C) గంగా
- (D) యమున

12. “ఉష్ణప్రాంతాలు భూమధ్యరేఖకు దగ్గరగా ఉన్నవి. ధృవప్రాంతాలు, ధృవాలకు దగ్గరగా ఉన్నవి”.

క్రింద ఇవ్వబడిన ఏ ప్రాంతాలలో అన్నింటికన్నా ఎక్కువ ఉష్ణోగ్రత ఉంటుంది ?

( )

- (A) ధృవ ప్రాంతాలు
- (B) భూమధ్య రేఖకు దగ్గరగా ఉండే ప్రాంతాలు
- (C) సమశీతోష్ణ మండల ప్రాంతాలు
- (D) భూమధ్య రేఖకు దూరంగా ఉండే ప్రాంతాలు

13. గృహ అవసరాలకు 5% నీటిని ఉపయోగిస్తున్నారు. నేటికీ జనాభాలో ఎక్కువమందికి తగినంత నీరు లభించడం లేదు. దీనికి కారణం ?

( )

- (A) పరిశ్రమలు ఎక్కువగా నీటిని ఉపయోగించడం
- (B) మానవులు నీటిని వృధాచేయడం
- (C) సరైన నీటి యాజమాన్య పద్ధతులు పాటించకపోవడం
- (D) భూమిపై నీటి వనరులు తక్కువగా ఉండడం.

14. నైఋతి ఋతు పవన కాలంలో వర్షచ్ఛాయా ప్రాంతం..... ( )

- (A) ఢిల్లీ
- (B) దక్కన్ పీఠభూమి తూర్పు భాగం
- (C) కాశ్మీరు
- (D) బ్రహ్మపుత్ర లోయ

15. పెట్టుబడి దారులు విశ్వసించేది ( )

- (A) కార్మికుల హక్కులు
- (B) ప్రజలకు సాంఘిక న్యాయం
- (C) లాభాలు, ప్రవేట్ ఆస్తి
- (D) ఆస్తిని శ్రామికులతో పంచుకోవడం

16. సాండూర్ ఇనుప ఖనిజ నిల్వలు ఏ నదీ పరివాహక ప్రాంతములో కలవు ( )

- (A) గోదావరి
- (B) సింధులోయ
- (C) తుంగభద్ర
- (D) మహానది

17. 1933లో ఎనేల్లింగ్ చట్టం జర్మనీలో ఏ పరిణామానికి దారితీసింది ( )

- (A) స్వతంత్రదేశం
- (B) వలస పాలన
- (C) ఆర్థిక విధానం
- (D) నిరంకుశ పాలన

---



**మాదిరి యూనిట్ పరీక్ష**  
**సమాధాన పత్రాల మూల్యాంకన సూచికలు**

**I. సంక్షిప్త సమాధాన ప్రశ్నలు.** 3 × 2 = 6

1వ ప్రశ్న:	అటవీ నిర్మూలన గురించి వ్రాస్తే	-	1 మా
	స్థానిక అంశాల ప్రస్తావన	-	1 మా
2వ ప్రశ్న:	లోగో రూపకల్పన	-	1 మా
	వ్యాఖ్యానం	-	1 మా
3వ ప్రశ్న:	పరిణామం తెల్పుడం	-	1 మా
	అభిప్రాయం	-	1 మా

**II. లఘు సమాధాన ప్రశ్నలు.** 3 × 1 = 3

4వ ప్రశ్న:	ఒక్కో స్పందనకు /వ్యాఖ్యకు	-	½ మా (1 మా)
5వ ప్రశ్న:	ఏవేని 2 కారణాలు	-	1 మా (½ + ½)
6వ ప్రశ్న:	ఏవేని 2 పరిమితులు	-	1 మా (½ + ½)

**III. వ్యాసరూప ప్రశ్నలు :** 3 × 4 = 12

7వ ప్రశ్న:	ఆర్థిక మాంద్యం - వివరణ	1 మా	
	6 పాయింట్లు $6 \times \frac{1}{2} =$	3 మా	4 మా
8వ ప్రశ్న:	ఒక్కో సమాధానం ( $4 \times 1 = 4$ )	1 మా	4 మా
9వ ప్రశ్న:	ఒక్కో అంశం పటంలో గుర్తింపు	1 మా	4 మా ( $4 \times 1 = 4$ )

**IV. బహుళైచ్ఛిక ప్రశ్నలు :** 8 × ½ = 4

10వ ప్రశ్న	<b>a</b>	½ మా
11వ ప్రశ్న	<b>c</b>	½ మా
12వ ప్రశ్న	<b>b</b>	½ మా
13వ ప్రశ్న	<b>d</b>	½ మా
14వ ప్రశ్న	<b>b</b>	½ మా
15వ ప్రశ్న	<b>c</b>	½ మా
16వ ప్రశ్న	<b>c</b>	½ మా
17వ ప్రశ్న	<b>d</b>	½ మా

# సాంఘిక శాస్త్రము

## 10వ తరగతి

మాదిరి ప్రశ్నా పత్రము

పేపర్ - 1

(భూగోళశాస్త్రము & అర్థశాస్త్రము)

(తెలుగు మీడియం)

## పదవ తరగతి పబ్లిక్ పరీక్ష మాదిరి ప్రశ్నా పత్రము

### పేపర్ : 1 (భూగోళశాస్త్రము & అర్థశాస్త్రము)

తరగతి : 10

విషయం : సాంఘిక శాస్త్రము

#### 1. విద్యా ప్రమాణాల భారత్వ పట్టిక

క్రమ సంఖ్య	విద్యా ప్రమాణములు	ప్రశ్నల సంఖ్య	మార్కులు	శాతము
1.	విషయ అవగాహన	23	31	40
2.	ఇచ్చిన పాఠ్యాంశమును చదివి అర్థం చేసుకొని విశ్లేషించడం	3	8	10
3	సమాచార నైపుణ్యాలు	8	12	15
4	సమకాలీన అంశాలపై ప్రతి స్పందన	9	8	10
5	పట నైపుణ్యాలు	3	12	15
6	ప్రశంస, సున్నితత్వము	8	8	10
	<b>మొత్తము</b>	<b>54</b>	<b>79</b>	<b>100</b>

#### 2. ప్రశ్నల భారత్వ పట్టిక

క్రమ సంఖ్య	ప్రశ్నలు-రకములు	ప్రశ్నల సంఖ్య	మార్కులు	శాతము
1.	వ్యాసరూప ప్రశ్నలు	8	32	40
2.	సంక్షిప్త సమాధాన ప్రశ్నలు	8	16	20
3.	అతి లఘు సమాధాన ప్రశ్నలు	6	6	7.5
4.	లక్ష్యాత్మక ప్రశ్నలు	30	15	19
5.	పటరూప ప్రశ్నలు	2	10	12.5
	<b>మొత్తం</b>	<b>54</b>	<b>79</b>	<b>100</b>

### 3. కఠినత్వ భారత్వ పట్టిక

క్రమ సంఖ్య	కఠినత్వపు స్థాయి	ప్రశ్నల సంఖ్య	మార్కులు	శాతము
1.	కఠిన ప్రశ్నలు	9	15	20
2.	సాధారణ ప్రశ్నలు	27	40	50
3.	సులభ ప్రశ్నలు	18	24	30
	మొత్తం	54	79	100

### 4. విషయ భారత్వ పట్టిక

క్రమ సంఖ్య	పాఠ్యాంశములు	ప్రశ్నల సంఖ్య	మార్కులు	శాతము
1.	భారతదేశము-భౌగోళిక స్వరూపములు	6	7	8.90
2.	భారతదేశ శీతోష్ణస్థితి	3	5	6.30
3.	భారతదేశ నదులు నీటి వనరులు	4	7	8.90
4.	ప్రజలు	3	5	6.30
5.	ప్రజలు నివాస ప్రాంతాలు	6	5½	7.00
6.	ప్రజలు వలసలు	6	6	7.60
7.	అభివృద్ధి భావనలు	3	3	3.80
8.	ఉత్పత్తి ఉపాధి	3	3	3.80
9.	రాంపురం : గ్రామ ఆర్థిక వ్యవస్థ	5	8	10.00
10.	ప్రపంచీకరణ	4.	5½	7.00
11.	ఆహార భద్రత	6	9	11.00
12.	సమానత-సుస్థిర అభివృద్ధి	3	5	6.30
13.	పట నైపుణ్యాలు	2	10	12.60
	మొత్తం	54	79	100

తరగతి : 10 వ

మాదిరి పబ్లిక్ పరీక్షా ప్రశ్నాపత్రము - పేపర్ - 1 - బ్లూ ప్రింట్ విషయము: సాంఘిక శాస్త్రము

క్రమ సంఖ్య	పాఠ్యాంశములు	విద్యా ప్రమాణాలు																				కేంద్రీకృత ప్రశ్నలు	సాంఘిక శాస్త్రము	కేంద్రీకృత ప్రశ్నలు	కేంద్రీకృత ప్రశ్నలు							
		విషయావగాహన				పా.చ.అ.చే. వ్యాఖ్యానించుట				సమాచార నైపుణ్యాలు				స.అం.ప్ర. ప్రశ్నించుట				పట నైపుణ్యాలు								ప్రశంస- సున్నితత్వం						
		E	S	V	O	E	S	V	O	E	S	V	O	E	S	V	O	E	S	V	O					E	S	V	O			
1	భారతదేశము - భౌగోళిక స్వరూపములు	1 (4)			2 (½)							1 (1)												1 (½)	6	7	8.9					
2	భారతదేశ శీతోష్ణస్థితి	1 (4)			1 (½)							1 (½)													3	5	6.3					
3	భారతదేశ నదులు నీటి వనరులు		1 (2)		1 (½)							1 (½)	1 (4)												4	7	8.9					
4	ప్రజలు				1 (½)				1 (4)																3	5	6.3					
5	ప్రజలు నివాస ప్రాంతాలు			1 (1)	2 (½)			1 (2)				1 (1)													6	5½	7					
6	ప్రజలు వలసలు				1 (½)			1 (2)																1 (2)	1 (½)	6	6	7.6				
	పట నైపుణ్యాలు																								1 (5)	1	5	6.3				
7	అభివృద్ధి భావనలు		1 (2)		1 (½)																				1 (½)	3	3	3.8				
8	ఉత్పత్తి ఉపాధి		1 (2)		1 (½)																				1 (½)	3	3	3.8				
9	రాంపురం : గ్రామ అర్థిక వ్యవస్థ				1 (½)					1 (4)															1 (1)	5	8	10				
10	ప్రపంచీకరణ	1 (4)			1 (½)																				1 (½)	4	5½	7				
11	ఆహార భద్రత			1 (1)	1 (½)	1 (4)																			1 (2)	1 (1)	6	9	11			
12	సమానత-సుస్థిర అభివృద్ధి	1 (4)			1 (½)																					1 (½)	3	5	6.3			
	పట నైపుణ్యాలు																									1 (5)	1	5	6.3			
	మొత్తం ప్రశ్నలు	4	3	2	14	1	2			2		2	4	1												2	2	4	54	79	100	
	మొత్తం మార్కులు	16	6	2	7	4	4			8		2	2	4													4	2	2		79	
	శాతము	40				10				15				10				15				10										100

This Question paper contains 4 Printed Pages.

## SOCIAL STUDIES, Paper-I

(Telugu version)

### Parts A and B

Time : 2 ½ Hours ]

[ Maximum Marks : 50

#### Instructions :

1. Answer the questions under Part-A on a separate answer book.
2. Write the answers to the questions under Part-B on the Question Paper itself and attach it to the answer book of Part-A.
3. Attach the given outline Map of the India with the answer book of Part-A.

### Part - A

Time : 2 Hours

Marks : 35

#### SECTION - I

5 x 2 = 10

- సూచనలు : 1. ప్రతి గ్రూపు నుండి రెండింటికి తక్కువ లేకుండా ఏవైనా ఐదు ప్రశ్నలకు సమాధానాలు రాయండి.  
2. ప్రతి ప్రశ్నకు రెండు మార్కులు

#### GROUP - A

1. గోదావరి ఒక ద్వీపకల్ప నది. ఇది తూర్పుకు ప్రవహించి బంగాళాఖాతంలో కలుస్తుంది. ఇలాంటి ద్వీపకల్ప నదుల లక్షణాలను రాయండి.
2. “పట్టణీకరణ పెరగడమంటే ప్రజల అవకాశాలు పెరగడం, ఆర్థిక కార్యకలాపాలు పెరగడం వంటివి ఒక్కటే కాదు. దాని వల్ల ఎన్నో సమస్యలు కూడా ఉత్పన్నమవుతాయి.”  
పట్టణ ప్రజల జీవన పరిస్థితులపైన నీ అభిప్రాయం ఏమిటి ?
3. కింది పేరా చదివి సమాధానం రాయండి.

భారతదేశంలో 2001 జనాభా లెక్కల ప్రకారం 30.7 కోట్ల మంది వలస వెళ్లారు. అనేక కారణాల వలన వలసలు జరగవచ్చు. ఆడవారిలో వలస వెళ్లడానికి వివాహం ప్రధాన కారణం కాగా, మగ వారిలో ఉపాధి కోసం అన్వేషణ ప్రధాన కారణం. ఉన్న ఊరిలోని ఉపాధి అవకాశాలపై అసంతృప్తి, విద్యకు మెరుగైన అవకాశాలు, వ్యాపారంలో నష్టాలు, కుటుంబ తగాదాలు వంటివి జనగణన స్వేచ్ఛలో ప్రజల వలసలకు కారణాలుగా పేర్కొన్నారు.

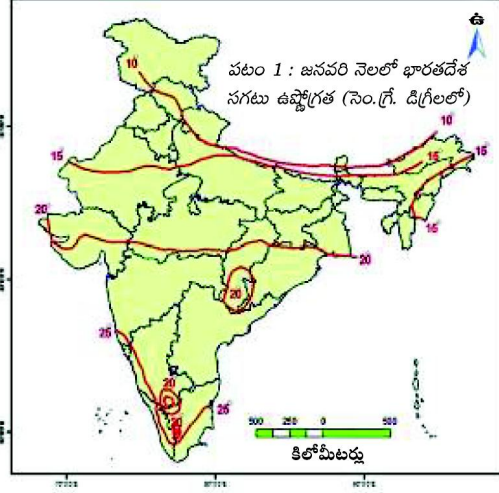
వలసల వలన ఎలాంటి పర్యవసానాలు కలుగుతాయని నీవు భావిస్తున్నావు?

4. పట్టణ ప్రాంతాలలో మురికి వాడలు ఏర్పడకుండా నిరోధించడానికి ఏవైనా నాలుగు పరిష్కారాలు సూచించండి.

#### GROUP - B

5. గ్రామీణ, పట్టణ ప్రాంతాల్లో నివసించే బాలికల లక్ష్యాలు ఒకే విధంగా ఉంటాయా? వారి దృష్టిలో అభివృద్ధి అనే అంశం పట్ల భావనలు విభిన్నంగా ఎందుకు ఉంటాయి?
6. సేవారంగం ఇతర రంగాలకంటే ఎలా భిన్నమైనది. కొన్ని ఉదాహరణలతో వివరించండి ?

7. ఆహార భద్రత గురించి మీ ప్రాంత ప్రజలలో అవగాహన కలిగించడానికి ఒక కరపత్రం తయారుచేయాల్సి వచ్చినప్పుడు దానిలో నీవు ఏ ఏ అంశాలు పొందుపరుస్తావు?
8. క్రింద ఇచ్చిన పటాన్ని పరిశీలించి ప్రశ్నలకు సమాధానాలు రాయండి.



- ఎ) జనవరి నెలలో సగటు ఉష్ణోగ్రత 20 డిగ్రీల సెంటీగ్రేడు ఉన్న రాష్ట్రాలు ఏవి?
- బి) ఉత్తర భారత దేశానికి వెళ్లే కొలది ఉష్ణోగ్రత ఎందుకు తగ్గుతుందని నీవు అనుకొంటున్నావు.

## SECTION - II

సూచన : క్రింది ప్రశ్నలలో నాలుగింటికి ఒకటి లేదా రెండు వాక్యాలలో సమాధానాలు వ్రాయండి. 4 X 1 = 4

9. కొన్ని ప్రదేశాలు చక్కని నివాస ప్రాంతాలుగా ఎక్కువ మందిని ఆకర్షిస్తుంటాయి. దీనికి గల కారణాలు ఏమిటి?
10. బహుళ జాతి సంస్థలు పని ప్రదేశాన్ని ఎంచుకోవడానికి ఉపయోగించే సాధారణ సూచికలను రెండింటినీ తెల్పండి.
11. రేషన్ కార్డులలో ఎన్ని రకాలుంటాయి? వాటిని గురించి తెలపండి.
12. విద్యుత్ సౌకర్యం ఏర్పడిన తరువాత వ్యవసాయం నీటి పారుదల వ్యవస్థలలో ఎలాంటి మార్పులు చోటుచేసుకుంటాయో రాంపురం ఉదంతం ఆధారంగా వివరించండి.
13. ప్రపంచీకరణ మీ ప్రాంతాన్ని ఏ విధంగా ప్రభావితం చేసిందని నీవు భావిస్తున్నావు?
14. వ్యవసాయంతోపాటూ పాడి పరిశ్రమ కూడా అభివృద్ధి చెందడం వల్ల స్థానికంగా ఎలాంటి ఉపయోగాలు కలుగుతున్నాయి ?

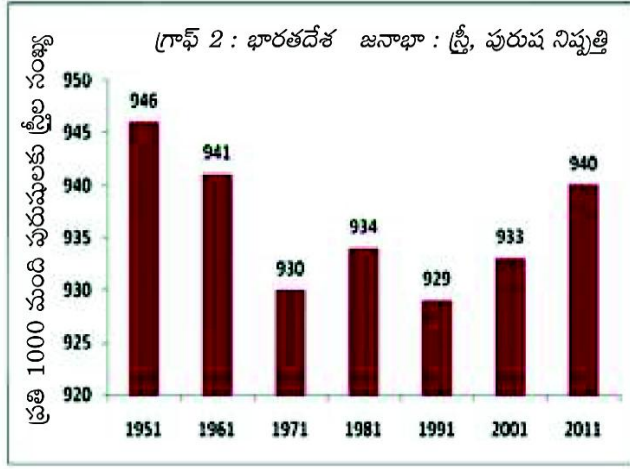
SECTION - III

సూచన : ప్రతి భాగము నుండి రెండేసి ప్రశ్నలు చొప్పున నాలుగు ప్రశ్నలకు సమాధానాల రాయండి.

4 X 4 = 16

GROUP-A

15. భారతదేశ భౌగోళిక స్వరూపాన్ని పూర్తిగా అర్థంచేసుకోడానికి నీవు పరిశీలించవలసిన విభాగాలేవి? వాటి గురించి వివరించండి ?
16. భూగోళం వేడెక్కడం అంటే ఏమిటి? దీని వలన కలిగే నష్టాలను వివరించడానికి ఏవీ చర్యల చేపట్టటడం అవసరం అని నీవు భావిస్తున్నావు?
17. క్రింది గ్రాఫ్‌ను పరిశీలించి ప్రశ్నలకు సమాధానాలు రాయండి.



- ఎ) పైన ఇచ్చిన గ్రాఫ్ మనకు ఏ విషయాన్ని తెలుపుతుంది?
  - బి) ఏ సంవత్సరంలో అతి తక్కువ స్త్రీ, పురుష నిష్పత్తి నమోదయింది. దీనికి కారణం ఏమిటి?
  - సి) స్త్రీ, పురుష నిష్పత్తిని ఎలా లెక్కగట్టారు ?
  - డి) స్త్రీల సంఖ్య 935 కంటే ఎక్కువగా ఎన్నిసార్లు నమోదు అయ్యింది ?
18. మీ ప్రాంతములో ఏవీ అవసరాలకు నీటిని తప్పని సరిగా కొనుగోలు చేయవలసి వస్తున్నది. ఈ పరిస్థితులు ఏర్పడడానికి గల కారణాలను వివరించండి.

GROUP-B

19. విదేశీ పెట్టుబడి, వాణిజ్యాలపై భారత ప్రభుత్వం ఆంక్షలు విధించడానికి కారణాలు ఏమిటి ? ఈ ఆంక్షలను అది ఎందుకు తొలగించాలని అనుకుంది ?
20. ఎండో సల్ఫాన్ వాడకాన్ని నిషేధిస్తూ న్యాయస్థానం జారీ చేసిన ఆదేశాలలో ఆ పురుగుమందులు వాడకం జీవించే హక్కుకు (రాజ్యాంగములోని 21వ అధికరణం ప్రకారం) భంగం కల్గించడం అవుతుంది? జీవించే హక్కుకు ఎండో సల్ఫాన్ ఎలా భంగం కల్గిస్తుందో వివరించండి.



21. క్రింది పట్టికను చదవండి. ప్రశ్నలకు సమాధానం రాయండి.

పట్టిక 9.1 : డిసెంబరు 2011లో వివిధ వ్యవసాయ పనులకు ఆంధ్రప్రదేశ్‌లో రోజువారీ కూలి రేట్లు (రూపాయలలో)								
కార్మికులు	దున్నటం	విత్తటం	కలుపు తీయటం	నాట్లు వేయటం	కోత	పోత	నూర్పిడి	పత్తి ఏరడం
పురుషులు	214	197	215	-	164	168	152	-
స్త్రీలు	-	152	130	143	126	124	118	136

- ఎ) కేవలం పురుషులు మాత్రమే చేస్తున్న పనులేవి.  
 బి) కేవలం స్త్రీలు మాత్రమే చేస్తున్న పనులేవి ?  
 సి) ఏ ఏ పనుల్లో స్త్రీ, పురుషుల కూలీలలో ఎక్కువ వ్యత్యాసం ఉంది.  
 డి) పురుషుల కంటే స్త్రీలకు తక్కువ కూలీ ఇవ్వటానికి కారణాలు ఏమిటి?

22. మన దేశ ప్రజలకు ఆహారాన్ని పొందే హక్కు కల్పించడంలో ఉద్దేశ్యం ఏమిటి? ప్రజా పంపిణీ వ్యవస్థ ద్వారా సబ్సిడీ ధరలకు ఆహారం అందించే విధానాన్ని సమర్థంగా అమలు చేయడానికి నీవు ఇచ్చే సలహాలేమిటి?

#### SECTION - IV

23. మీకు ఇవ్వబడిన భారతదేశ పటంలో ఈ క్రింది వానిని గుర్తించండి.

1 X 5 = 5

- ఎ) 1. కృష్ణానది ప్రవాహ మార్గము  
 2. అనైముడి శిఖరము  
 3. లక్ష దీవులు  
 4. కన్యాకుమారి  
 5. పశ్చిమ కనుమలు

(లేక)

- బి) 1. సర్కారు తీరము  
 2. తూర్పు, పశ్చిమ కనుమలు కలిసే ప్రాంతం.  
 3. పులికాట్ సరస్సు  
 4. కర్కట రేఖ.  
 5. ఇందిరా పాయింట్

-x0x-

This Question paper contains 4 Printed Pages.

## SOCIAL STUDIES, Paper-I

(Telugu version)

### Parts A and B

Time : 2 ½ Hours ]

[ Maximum Marks : 50

### Part - B

Time : 30 minutes

Marks :15

Note : 1. Answer all the questions.

2. Each question carries ½ mark.

3. For questions from 1 to 20, answers are given under A, B, C and D. Candidate must use the CAPITAL LETTERS while answering the multiple choice questions.

4. Marks will **not** be awarded in case of any over-writing, re-writing or erased answers.

Note : Answer the following questions in the space provided and **attach** it to the main answer book of

Part - A.

సూచన : ఈ క్రింది వానికి సరియైన సమాధానమును ఎన్నుకుని ఎదురుగా గల బ్రాకెట్లలో వ్రాయండి.

20 × ½ = 10

1. కిందివానిలో భారతదేశ ప్రామాణిక కాల మండల రేఖాంశం.

( )

(A) 98°27' తూర్పు రేఖాంశము.

(B) 82°30' తూర్పు రేఖాంశము.

(C) 92°30' తూర్పు రేఖాంశము.

(D) 72°30' తూర్పు రేఖాంశము.

2. చెన్నై, ఢిల్లీ నగరాల మధ్య పూర్తి తేడాగా కనిపించే అంశం.

( )

(A) రేయింబవళ్ళ వ్యత్యాసము

(B) రాత్రి పగలు ఉష్ణోగ్రత

(C) పవనాలు వీచే వేగము

(D) పవనాలు వీచే దిశ.

3. కృష్ణ, గోదావరి వంటి నదులు తూర్పుకు ప్రవహించుటకు కారణం

( )

(A) పశ్చిమ కనుమలలో పుట్టడం

(B) దక్కను పీఠభూమి పడమరకు వాలి ఉండడం

(C) తూర్పు దిక్కున బంగాళాఖాతం ఉండడం

(D) నదులు జన్మస్థానం సముద్రానికి దగ్గరగా ఉండడం

4. భారతదేశంలో మొట్టమొదటి సంపూర్ణ జనగణన ఈ సంవత్సరంలో జరిగింది. ( )  
(A) 1972  
(B) 1881  
(C) 1771  
(D) 1901
5. గన్నవరం విమానాశ్రయం ఈ నగరానికి సమీపంలో ఉంది ( )  
(A) కర్నూలు  
(B) నెల్లూరు  
(C) విజయవాడ  
(D) విజయనగరం
6. పట్టణ ప్రాంతాల్లో ఉద్యోగాలు సులువుగా లభించక పోవడానికి ఇది కారణం. ( )  
(A) పరిచయాలు లేకపోవడం  
(B) పోటీ ఎక్కువగా ఉండడం  
(C) ఉద్యోగానిక కావలసిన నైపుణ్యాలు లేకపోవడం  
(D) కొత్తవారిని నమ్మక పోవడం
7. భారతదేశంలో పౌష్టికాహారలోపం ఒక ప్రధాన సమస్యగా ఉందని వీరు నిర్వహించిన సర్వే ద్వారా తెలియజేశారు. ( )  
(A) జాతీయ పౌష్టికాహార సంస్థ (NIN)  
(B) సమగ్ర శిశు అభివృద్ధి ప్రాజెక్ట్ (ICDS)  
(C) భారత ఆహార సంస్థ (FCI)  
(D) ప్రజా పంపిణీ వ్యవస్థ (PDS)
8. స్థూల జాతీయోత్పత్తిని ఒక ఆర్థిక వ్యవస్థలో ఒక సం॥లో ఉత్పత్తి చేసిన ఏ వస్తువుల మొత్తం విలువ ఆధారంగా లెక్కిస్తారు? ( )  
(A) అంతిమ వస్తువులు, సేవలు  
(B) అన్ని మాధ్యమిక వస్తువులు, సేవలు  
(C) అన్ని అంతిమ, మాధ్యమిక వస్తువులు, సేవలు  
(D) విదేశాల నుండి వచ్చిన వస్తు సేవల విలువ.
9. ఈ క్రింది వాటిలో ఉత్పత్తి కారకం కానిది. ( )  
(A) భూమి  
(B) శ్రమ  
(C) రవాణా సౌకర్యాలు  
(D) మూలధనం

10. అంతర్జాతీయ వాణిజ్యంలో సరళీకృత విధానాల ఏర్పాటు, అమలును పర్యవేక్షించే సంస్థ. ( )
- (A) U.N.O.  
(B) W.T.O.  
(C) W.H.O.  
(D) I.L.O.
11. 1943-45 సంవత్సరాల మధ్య తీవ్రమైన కరువు సంభవించిన ప్రాంతం. ( )
- (A) పంజాబ్  
(B) గుజరాత్  
(C) కేరళ  
(D) బెంగాల్
12. చిపోక్ ఉద్యమం ఈ నదీ పరివాహ ప్రాంతంలో ప్రారంభం అయింది. ( )
- (A) తపతి నది  
(B) దామోదర నది  
(C) నర్మదా నది  
(D) మహానది
13. వలసలు ప్రధానంగా జరిగే ప్రాంతములు ( )
- (A) పట్టణాల నుండి గ్రామాలకు  
(B) గ్రామాల నుండి గ్రామాలకు  
(C) గ్రామాలనుండి పట్టణాలకు  
(D) పట్టణాల నుండి పట్టణాలకు
14. మురికివాడలు వృద్ధిచెందడానికి ముఖ్య కారణం ( )
- (A) పట్టణాలకు జనాభా అధికంగా వలస రావడం  
(B) పరిశుభ్రంగా ఉండే నివాస ప్రాంతాలు లేకపోవడం  
(C) పట్టణాలకు వలస వచ్చే వారికి పరిశుభ్రత పట్ల అవగాహన లేక పోవడం  
(D) ప్రణాళికా బద్ధంగా నివాస ప్రాంతాలు అభివృద్ధి చెందక పోవడం
15. మధ్యాహ్న భోజన పథకం అమలు ద్వారా కలిగే ప్రధాన ప్రయోజనం. ( )
- (1) పిల్లల హాజరు శాతం పెరగడం.  
(2) పిల్లల్లో అభ్యసన నాణ్యత, సామర్థ్యాల సాధన పెంపొందడం  
(3) విద్యార్థులకు పౌష్టికాహారం అందడం  
(4) తల్లిదండ్రుల ఆర్థిక స్తోమత పెరగడం
- (A) 3 మరియు 1 (B) 1 మరియు 2 (C) 1 మరియు 4 (D) 3 మరియు 4

16. ఖనిజ వనరులు, అనుకూల వాతావరణం ఉండడం అనేది ఈ రకమైన పెట్టుబడి. ( )

- (A) సహజ పెట్టుబడి
- (B) కృత్రిమ పెట్టుబడి
- (C) ప్రైవేటు పెట్టుబడి
- (D) ప్రభుత్వ పెట్టుబడి

17. మన దేశానికి సహజ రక్షణ కవచాలు అని భావించడానికి కారణమైన పర్వతాలు ( )

- (A) ఆరావళి పర్వతాలు
- (B) వింధ్య సాత్పురా పర్వతాలు
- (C) హిమాలయ పర్వతాలు
- (D) పడమటి కనుమలు

18. తెలంగాణ నూతన రాష్ట్రంగా ఆవిర్భవించడం వలన ప్రస్తుతం, ఆంధ్రప్రదేశ్ ఏ రాష్ట్రంతో సరిహద్దును కోల్పోయింది. ( )

- (A) ఒరిస్సా
- (B) మహారాష్ట్ర
- (C) కర్ణాటక
- (D) తమిళనాడు

19. ఒక రాష్ట్ర జనసాంద్రతను దీని ఆధారంగా లెక్కిస్తారు. ( )

- (1) రాష్ట్ర విస్తీర్ణం
- (2) జనసంఖ్య
- (3) సహజ వనరులు
- (4) తలసరి ఆదాయం

- (A) 1 మరియు 2
- (B) 2 మరియు 3
- (C) 3 మరియు 4
- (D) 1 మరియు 4

20. బహుళజాతి సంస్థలు రావడం వలన కలిగే ముఖ్య ప్రయోజనం. ( )

- (A) ప్రజలకు ఉపాధి అవకాశాలు పెరుగుతాయి.
- (B) బహుళ జాతి సంస్థలు తమ లాభాల్ని ప్రభుత్వానికి పంచుతాయి.
- (C) రవాణా సౌకర్యాలు పెరుగుతాయి.
- (D) ఖరీదైన వస్తువులు కూడ తక్కువ ధరకే దొరుకుతాయి.

II. ఈ క్రింది ఖాళీలను పూరింపుము. 5 x ½ = 2½

- 21. నైరుతి రుతుపవనాలు ..... రాష్ట్రంలో ప్రారంభమవుతాయి.
- 22. లక్షదీవులు ..... చేత నిర్మితమైనాయి.
- 23. 2001 సం॥ ప్రకారం ..... రాష్ట్రంలో అత్యల్ప జనసాంద్రత ఉన్నది.
- 24. SEZ ను విస్తరించి రాయగా .....
- 25. భారతదేశంలో ..... ను అతి పెద్ద నదీ ద్వీపకల్పంగా పేర్కొంటారు.

III. జతపరచండి.

5 x ½ = 2½

- |                            |     |                              |
|----------------------------|-----|------------------------------|
| 26. అణువిద్యుత్ కేంద్రం    | ( ) | a) రొయ్యల పెంపకం             |
| 27. అసంఘటిత రంగ ఉపాధి      | ( ) | b) వ్యవసాయము, పాడిపరిశ్రమ    |
| 28. హరిత విప్లవం.          | ( ) | c) భారత ఆహార నిల్వలు         |
| 29. గ్రామీణ ఆర్థిక వ్యవస్థ | ( ) | d) తిరువనంతపురం              |
| 30. బఫర్ నిల్వలు           | ( ) | e) కుడంకుళం                  |
|                            |     | f) తునికాకు సేకరణ            |
|                            |     | g) గోధుమ పంట                 |
|                            |     | h) బ్యాంకులో నగదు దాచుకోవడం. |

**మాదిరి పబ్లిక్ పరీక్షా ప్రశ్నా పత్రము - పేపర్ - 1**  
**సమాధాన పత్రాల మూల్యాంకన సూచికలు**

**I. సంక్షిప్త సమాధాన ప్రశ్నలు.**

5 × 2 = 10

1వ ప్రశ్న:	ఏవైనా నాలుగు లక్షణాలు వ్రాస్తే	-	2 మా (4 × ½ = 2)
2వ ప్రశ్న:	పట్టణ సమస్యలు	-	1 మా
	అభిప్రాయం	-	1 మా
3వ ప్రశ్న:	ఏవైనా వలసలకు నాలుగు కారణాలు	-	2 మా (4 × ½ = 2)
4వ ప్రశ్న:	ఏవైనా వలస వలన కలిగే సమస్యలు	-	2 మా (4 × ½ = 2)
5వ ప్రశ్న:	కారణాలు చెప్పడం	-	2 మా (4 × ½ = 2)
6వ ప్రశ్న:	సేవారంగం వివరణ	-	1 మా
	ఉదాహరణలు ఇవ్వడం	-	1 మా
7వ ప్రశ్న:	ఆహార భద్రత వివరణ	-	1 మా
	కరపత్రం నమూనా	-	1 మా
8వ ప్రశ్న:	పటాన్ని చదవడం	-	1 మా
	కారణం చెప్పడం	-	1 మా

**II. లఘు సమాధాన ప్రశ్నలు.**

4 × 1 = 4

9వ ప్రశ్న:	ఏవైనా రెండు కారణాలు	-	1 మా (½ + ½)
10వ ప్రశ్న:	ఏవేని 2 సూచికలు	-	1 మా (½ + ½)
11వ ప్రశ్న:	ఏవేని 2 రకాల పేర్లు	-	1 మా (½ + ½)
12వ ప్రశ్న:	ప్రభావం గురించి వివరణ	-	1 మా
13వ ప్రశ్న:	ఏవేని 2 కారణాలు	-	1 మా (½ + ½)
14వ ప్రశ్న:	ఏవేని 2 ఉపయోగాలు చెప్పడం	-	1 మా (½ + ½)

**III. వ్యాసరూప ప్రశ్నలు :**

4 × 4 = 16

15వ ప్రశ్న:	భౌగోళిక విభాగాలు, వర్గీకరణ	-	1 మా
	విభాగాల వివరణ	-	3 మా
16వ ప్రశ్న:	నాలుగు నష్టాలు	-	2 మా (4 × ½ = 2)
	నాలుగు నివారణ చర్యలు	-	2 మా (4 × ½ = 2)
17వ ప్రశ్న:	ఒక్కో జవాబుకు - 1 మా	-	4 మా (4 × 1 = 4)
18వ ప్రశ్న:	నీటి అవరసరం	-	1 మా
	విశ్లేషణ చేయడం	-	3 మా

19వ ప్రశ్న:	కారణాలు చెప్పడం	-	3 మా
	వివరణ	-	1 మా
20వ ప్రశ్న:	పురుగు మందుల వాడకం	-	1 మా
	వాడకం వలన కలిగే నష్టాలు	-	3 మా (6 × ½ = 3 )
21వ ప్రశ్న:	ఒక్కో జవాబుకు 1 మార్కు	-	4 మా (4 × 1 = 4)
22వ ప్రశ్న:	ఆహార భద్రత ప్రాధాన్యత	-	2 మా
	ఆహార భద్రత చట్టం వివరణ	-	2 మా

**IV. పటనైపుణ్యాలు**

**5 × 1 = 5**

భారత దేశ పటంలో 5 అంశాలు గుర్తింపు	-	5 మా
-----------------------------------	---	------

**పార్ట్ - బి**

బహుళైచ్ఛిక ప్రశ్నలు :

20 × ½ = 10

1వ ప్రశ్న	<b>B</b>	½ మా
2వ ప్రశ్న	<b>B</b>	½ మా
3వ ప్రశ్న	<b>C</b>	½ మా
4వ ప్రశ్న	<b>B</b>	½ మా
5వ ప్రశ్న	<b>C</b>	½ మా
6వ ప్రశ్న	<b>B</b>	½ మా
7వ ప్రశ్న	<b>C</b>	½ మా
8వ ప్రశ్న	<b>A</b>	½ మా
9వ ప్రశ్న	<b>C</b>	½ మా
10వ ప్రశ్న	<b>B</b>	½ మా
11వ ప్రశ్న	<b>D</b>	½ మా
12వ ప్రశ్న	<b>B</b>	½ మా
13వ ప్రశ్న	<b>C</b>	½ మా
14వ ప్రశ్న	<b>D</b>	½ మా
15వ ప్రశ్న	<b>C</b>	½ మా
16వ ప్రశ్న	<b>A</b>	½ మా
17వ ప్రశ్న	<b>C</b>	½ మా
18వ ప్రశ్న	<b>B</b>	½ మా
19వ ప్రశ్న	<b>C</b>	½ మా
20వ ప్రశ్న	<b>A</b>	½ మా



ఖాళీలు పూరించుట :

$5 \times \frac{1}{2} = 2 \frac{1}{2}$

- 21వ ప్రశ్న - కేరళ
- 22వ ప్రశ్న - ప్రవాళ బిత్తికలు
- 23వ ప్రశ్న - అరుణాచల్ ప్రదేశ్
- 24వ ప్రశ్న - Speical Economic Zone
- 25వ ప్రశ్న - గోదావరి

జతపరుచుము :

$5 \times \frac{1}{2} = 2 \frac{1}{2}$

- 26వ ప్రశ్న - E
  - 27వ ప్రశ్న - F
  - 28వ ప్రశ్న - G
  - 29వ ప్రశ్న - B
  - 30వ ప్రశ్న - C
-

# సాంఘిక శాస్త్రము

## 10వ తరగతి

మాదిరి ప్రశ్నా పత్రము

పేపర్ - 2

(చరిత్ర & పౌరజీవనం)

(తెలుగు మీడియం)

**పదవ తరగతి పబ్లిక్ పరీక్ష మాదిరి ప్రశ్నా పత్రము**  
**పేపర్ : 2 (చరిత్ర & పౌరజీవనం)**

తరగతి : 10

విషయం : సాంఘిక శాస్త్రము

**1. విద్యా ప్రమాణాల భారత్వ పట్టిక**

క్రమ సంఖ్య	విద్యా ప్రమాణములు	ప్రశ్నల సంఖ్య	మార్కులు	శాతము
1.	విషయ అవగాహన	22	31	40
2.	ఇచ్చిన పాఠ్యాంశమును చదివి అర్థం చేసుకొని విశ్లేషించడం	3	8	10
3	సమాచార నైపుణ్యాలు	7	11	14
4	సమకాలీన అంశాలపై ప్రతి స్పందన	9	8	10
5	పట నైపుణ్యాలు	5	13	16
6	ప్రశంస, సున్నితత్వము	8	8	10
	మొత్తము	54	79	100

**2. ప్రశ్నల భారత్వ పట్టిక**

క్రమ సంఖ్య	ప్రశ్నలు-రకములు	ప్రశ్నల సంఖ్య	మార్కులు	శాతము
1.	వ్యాసరూప ప్రశ్నలు	8	32	40
2.	సంక్షిప్త సమాధాన ప్రశ్నలు	8	16	20
3.	అతి లఘు సమాధాన ప్రశ్నలు	6	6	7.5
4.	లక్ష్యాత్మక ప్రశ్నలు	30	15	19
5.	పటరూప ప్రశ్నలు	2	10	12.5
	మొత్తం	54	79	100

### 3. కఠినత్వ భారత్వ పట్టిక

క్రమ సంఖ్య	కఠినత్వపు స్థాయి	ప్రశ్నల సంఖ్య	మార్కులు	శాతము
1.	కఠిన ప్రశ్నలు	9	15	20
2.	సాధారణ ప్రశ్నలు	27	40	50
3.	సులభ ప్రశ్నలు	18	24	30

### 4. విషయ భారత్వ పట్టిక

క్రమ సంఖ్య	పాఠ్యాంశములు	ప్రశ్నల సంఖ్య	మార్కులు	శాతము
1.	ప్రపంచ యుద్ధాల మధ్య ప్రపంచం-1	4	6	7.60
2.	ప్రపంచ యుద్ధాల మధ్య ప్రపంచం-2	5	4	5.10
3.	వలస ప్రాంతాలలో జాతి విముక్తి...	7	12	15.00
4.	భారతదేశ జాతీయోద్యమం...	4	6	7.60
5.	ప్రపంచ యుద్ధాల తరువాత...	6	6½	8.20
6.	స్వతంత్ర భారత రాజ్యాంగము	4	6½	8.20
7.	స్వతంత్ర భారత దేశములో మొదటి...	6	5	6.30
8.	రాజకీయ దోరణుల ఆవిర్భావం	5	9	11.00
9.	సమకాలీన సామాజిక ఉద్యమాలు	6	10	13.00
10.	పౌరులు - ప్రభుత్వాలు	5	4	5.10
11.	పట నైపుణ్యాలు	2	10	12.60
	మొత్తం	54	79	100

తరగతి : 10 వ

మాదిరి పబ్లిక్ పరీక్షా ప్రశ్నాపత్రము - పేపర్ - 2 - బ్లూ ప్రింట్

విషయము: సాంఘిక శాస్త్రము

క్ర. సం.	పాఠ్యాంశములు	విద్యా ప్రమాణాలు																				మొత్తం ప్రశ్నలు	మొత్తం మార్కులు	శాతము				
		విషయావగాహన				పా. చ. అ. చే. వ్యాఖ్యానించుట				సమాచార నైపుణ్యాలు				స. అం. ప్ర. ప్రశ్నించుట				పట నైపుణ్యాలు							ప్రశంస- సున్నితత్వం			
		E	S	V	O	E	S	V	O	E	S	V	O	E	S	V	O	E	S	V	O							
1	ప్రపంచ యుద్ధాల మధ్య ప్రపంచం-1	1 (4)			1 (½)							1 (1)				1 (½)								4	6	7.6		
2	ప్రపంచ యుద్ధాల మధ్య ప్రపంచం-2				2 (½)						1 (2)					1 (½)							1 (½)	5	4	5.1		
3	వలస ప్రాంతాలలో జాతి విముక్తి...		1 (2)		1 (½)					1 (4)			1 (½)	1 (4)		1 (½)							1 (½)	7	12	15		
4	భారతదేశ జాతీయోద్యమం...	1 (4)			1 (½)											1 (½)						1 (1)		4	6	7.6		
5	ప్రపంచ యుద్ధాల తరువాత...			1 (1)	1 (½)		1 (2)									1 (½)		1 (2)					1 (½)	6	6½	8.2		
	పట నైపుణ్యాలు																						1	5	6.3			
6	స్వతంత్ర భారత రాజ్యాంగము	1 (4)		1 (1)	1 (½)						1 (1)													4	6½	8.2		
7	స్వతంత్ర భారత దేశములో మొదటి...		1 (2)	1 (1)	2 (½)											1 (½)							1 (½)	6	5	6.3		
8	రాజకీయ దోరణుల ఆవిర్భావం				1 (½)	1 (4)	1 (2)				1 (2)												1 (½)	5	9	11		
9	సమకాలీన సామాజిక ఉద్యమాలు	1 (4)			1 (½)											1 (½)			1 (½)	1 (4)			1 (½)	6	10	13		
10	పౌరులు - ప్రభుత్వాలు		1 (2)		1 (½)							1 (½)				1 (½)				1 (½)				5	4	5.1		
	పట నైపుణ్యాలు															1 (5)								1	5	6.3		
	మొత్తం ప్రశ్నలు	4	3	3	12	1	2			1	2	2	2	1		8	2	1		2	1		1	6	54	79	100	
	మొత్తం మార్కులు	16	6	3	6	4	4			4	4	2	1	4		4	10	2		1	4		1	3		79		
	శాతము	40				10				14				10				16				10				100		

This Question paper contains 4 Printed Pages.

## SOCIAL STUDIES, Paper-II

(Telugu version)

### Parts A and B

Time : 2 ½ Hours ]

[ Maximum Marks : 50

**Instructions :**

1. Answer the questions under Part-A on a separate answer book.
2. Write the answers to the questions under Part-B on the Question Paper itself and attach it to the answer book of Part-A.
3. Attach the given outline Map of the World with the answer book of Part-A.

### Part - A

Time : 2 Hours

Marks : 35

#### SECTION - I

5 x 2 = 10

- సూచనలు : 1. ప్రతి గ్రూపు నుండి రెండింటికి తక్కువ లేకుండా ఏవైనా ఐదు ప్రశ్నలకు సమాధానాలు రాయండి.  
2. ప్రతి ప్రశ్నకు రెండు మార్కులు

#### GROUP - A

1. ప్రాచీన సాంప్రదాయాలను, విదేశీ శక్తులను చైనాలోని యువకులు వ్యతిరేకించడానికి ఏ ఏ అంశాలను నీవు కారణాలుగా పేర్కొంటావు?
2. కింది విషయాన్ని చదివి, అర్థంచేసుకొని సమాధానం రాయండి.

“ఈ యుద్ధం ముగింపు దశకు చేరుకుంటున్న తరుణంలో మిత్రదేశాలలో ముఖ్యమైన బ్రిటన్, ఫ్రాన్స్, అమెరికా, రష్యా, చైనా, ఐక్యరాజ్య సమితి ఏర్పాటుకు ఒక పత్రాన్ని తయారుచేశాయి. ఈ పత్రం యుద్ధాలను నివారించి శాంతిని నెలకొల్పే అంశానికే కాకుండా ప్రజలందరికీ స్వేచ్ఛ, సమానత్వం లభించేలా, పేదరికం, ఆకలి వంటి దుర్భర పరిస్థితులకు అంతం పలికేలా, మానవ హక్కుల కల్పనకు ప్రాధాన్యమిచ్చింది.”

మిత్ర దేశాలు ఐక్యరాజ్యసమితిని స్థాపించడం ద్వారా ఏమి సాధించాలని భావించాయి?

3. క్రింది కాల పట్టికను పరిశీలించి ప్రశ్నలకు జవాబు ఇవ్వండి.

ఎ) రెండవ ప్రపంచ యుద్ధం ఏ కారణంచేత ప్రారంభమైనది చెప్పవచ్చు ?

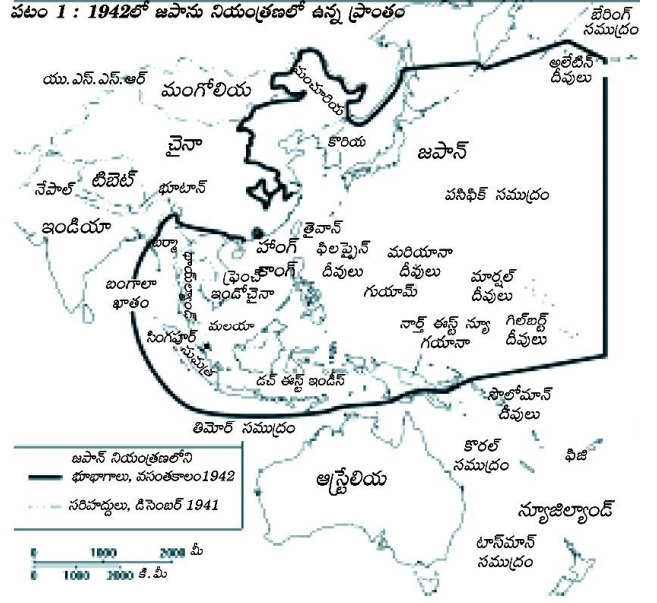
బి) ప్రపంచ చరిత్రలో 1941లో జరిగిన కీలక ఘట్టాలు ఏవి?

కాలపట్టిక - II

వైమర్ గణతంత్ర రాజ్యంగా ప్రకటన	నవంబర్ 9, 1918
హిట్లర్ జర్మనీకి ఛాన్సలర్ గా కావడం	జనవరి 30, 1933
జర్మనీ పోలెండ్ పై దండెత్తడం, రెండవ ప్రపంచ యుద్ధం ప్రారంభం	సెప్టెంబర్ 1, 1939
యు.ఎస్.ఎస్.ఆర్. పై జర్మనీ దండెత్తడం	జూన్ 22, 1941
యాధులపై సామూహిక హత్యాకాండ	జూన్ 23, 1941
అమెరికా సంయుక్త రాష్ట్రాలు రెండవ ప్రపంచ యుద్ధంలో చేరడం	డిసెంబర్ 8, 1941
సోవియట్ సేనలు బెర్లిన్ కు విముక్తి కల్పించడం	జనవరి 27, 1945
యూరప్ లో కూటమిగా సాధించిన విజయం	మే 8, 1945

4. ఈ క్రింది పటాన్ని పరిశీలించి ప్రశ్నలకు జవాబులు రాయండి.

- ఎ) జపాన్ నియంత్రణలో లేని ఏవేని రెండు దేశాలను పేర్కొనండి.
- బి) జపాన్ నియంత్రణలో ఉన్న జపాన్ కు పశ్చిమ వైపున ఉన్న రెండు ప్రాంతాలను పేర్కొనండి.



GROUP - B

5. రాష్ట్రాల పునర్వ్యవస్థీకరణ సంఘాన్ని గూర్చి రాయండి ? దీనివల్ల కలిగిన ప్రయోజనాలు ఏమిటి?
6. కింది సమాచారం చదవండి. సమాధానం రాయండి.

“కేంద్రంలో ప్రభుత్వాన్ని ఏర్పాటు చేయడానికి, జాతీయ, ప్రాంతీయ పార్టీలు కలసి ఒప్పందాలకు రావలసి వచ్చింది. దీనివల్ల రాజకీయ దృష్టి కోణాల పట్ల కేంద్రప్రభుత్వాలు సున్నితంగా వ్యవహరించవలసిన పరిస్థితి ఏర్పడింది.”

సంకీర్ణ ప్రభుత్వాలు రాజకీయ అనిశ్చితికి దోహదపడుతున్నాయి. వ్యాఖ్యానించండి?

7. ఇచ్చిన దత్తాంశాన్ని చదివి ప్రశ్నలకు సమాధానాలు రాయండి.

1980ల నుంచి సంకీర్ణ ప్రభుత్వాలు కొన్ని రాజకీయ పార్టీలు

అధికారంలో ఉన్న పార్టీలు	నేషనల్ ఫ్రంట్ 1989-1990	అధికారంలో ఉన్న పార్టీలు	యునైటెడ్ ఫ్రంట్ 1996-1998	అధికారంలో ఉన్న పార్టీలు	నేషనల్ డెమోక్రాటిక్ అలయన్స్ 1998-2004
జెడి, డిఎంకె, ఎజిపి, టిడిపి జమ్ము & కాశ్మీర్ నేషనల్ కాన్ఫరెన్స్ (జెకె ఎన్సి)	జెకెఎన్సి, టిడిపి, టిఎంసి, సిపిఐ, ఎజిపి, డిఎంకె, ఎంజిపి,	జెడియు, ఎన్ఎడి, ఎఐఎడిఎంకె, జెకెఎన్సి, తృణమూల్ కాంగ్రెస్, బిజూ జనతా దళ్, శివసేన	మద్దతునిచ్చిన పార్టీలు సిపిఎం, సిపిఐ, బిజెపి	మద్దతునిచ్చిన పార్టీలు సిపిఎం	మద్దతునిచ్చిన పార్టీలు టిడిపి

- ఎ) నేషనల్ ఫ్రంట్, యునైటెడ్ ఫ్రంట్ ప్రభుత్వాలలో అధికారంలో ఉండి నేషనల్ డెమోక్రాటిక్ అలయన్స్ ప్రభుత్వానికి బయటనుండి మద్దతు ఇచ్చిన పార్టీ ఏది?
- బి) మూడు ప్రభుత్వాలలోను అధికారంలో కొనసాగిన పార్టీ ఏది?

8. రంగయ్య ఒక పేద రైతు. ఆక్రమణకు గురైన తన పొలాన్ని కోర్టు ద్వారా కాపాడుకోవాలనుకున్నాడు. కోర్టు ఫీజులు, ఇతర ఖర్చులు భరించలేని ఇలాంటి పేద ప్రజలకు మన దేశంలో లభించే ఉచిత న్యాయ సేవలు ఏవి?

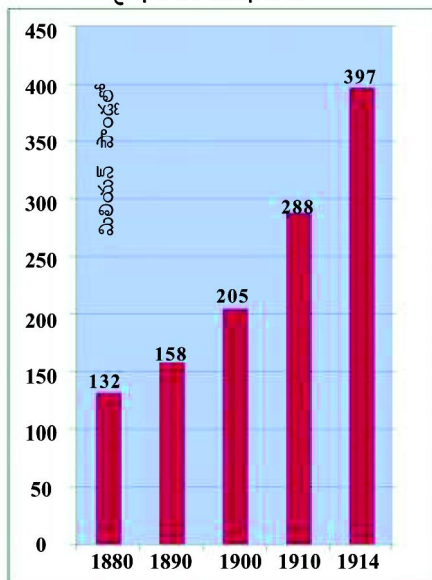
SECTION - II

సూచన : క్రింది ప్రశ్నలలో నాలుగింటికి ఒకటి లేదా రెండు వాక్యాలలో సమాధానాలు రాయండి.

4 X 1 = 4

9. స్వేచ్ఛ మనకు రాజ్యాంగం ప్రసాదించిన ఒక వరం అంటారు. ఇలా భారత రాజ్యాంగ ప్రవేశికలో పొందుపరచిన మౌలిక ఆదర్శాలను గురించి రాయండి.
10. ఒక దేశం అభివృద్ధి చెందాలంటే ప్రపంచ దేశాలతో సరైన సంబంధాలు నెలకొల్పుకోవడం అవసరం అని మీరు అంగీకరిస్తారా? అయితే మన దేశం అనుసరించాల్సిన విదేశీ సూత్రాలు ఎలా ఉండాలి.
11. ప్రపంచ యుద్ధాల అనంతరము ఏర్పడిన రెండు ప్రధాన సైద్ధాంతిక, రాజకీయ శిబిరాలు ఏవి ?
12. 1880 నుండి 1914 మధ్యకాలంలో అగ్రదేశాల సైనిక ఖర్చును తెలిపే బార్ గ్రాఫ్ను పరిశీలించండి.

గ్రాఫ్ : 2 ఆయుధ పోటీ



గత 30 సం॥రాలలో అగ్రదేశాల సైనిక ఖర్చులో వచ్చిన మార్పు ఏమిటి? దీనికి కారణం ఏమిటని మీరు భావిస్తున్నారు?

13. “16వ లోక్సభ ఎన్నికలలో భారతీయ జనతా పార్టీ 282, భారత జాతీయ కాంగ్రెస్ 44, శివసేన 18, తెలుగుదేశం పార్టీ 16 స్థానాలను దక్కించుకొన్నాయి.” ఈ పరిస్థితులలో ఏ పార్టీ ప్రభుత్వాన్ని ఏర్పాటు చేయగలదు? ఎందుకు?
14. భారత స్వాతంత్రోద్యమంలో సుభాష్చంద్రబోస్, మహాత్మాగాంధీలు అనురించిన మార్గాలు ఏమిటి?



SECTION - III

Group - A

సూచన : ప్రతి విభాగము నుండి రెండేసి ప్రశ్నల చొప్పున నాలుగు ప్రశ్నలకు సమాధానములు వ్రాయండి.

4 X 4 = 16

15. ప్రపంచములో సంభవించిన రెండు ప్రపంచ యుద్ధాలకు గల ప్రధాన కారణములను పేర్కొనండి ?
16. దేశ విభజన నాటి నుండి రాజకీయాలను మతము ప్రభావితం చేస్తోంది అనడానికి నిదర్శనాలు రాయండి.
17. యూదులను జర్మనీకి శత్రువులుగా చేయాలని హిట్లర్ కోరుకున్నాడని మీరు భావిస్తున్నారా? ఎందుకు?
18. క్రింది కాలపట్టిక చదివి సమాధానాలు రాయండి.

కాల పట్టిక-I

రష్యాలో సోషలిజంపై చర్చలు	• 1850 - 1880
రష్యా సోషల్ ప్రజాస్వామిక కార్మికుల పార్టీ ఏర్పాటు	• 1898
రక్తసిక్త ఆదివారం విప్లవం	• 1905
మార్చి 2 - జారు చక్రవర్తి పరారీ అక్టోబరు 24 - పెట్రోగ్రాడ్ లో బోల్షీవిక్కులు తిరుగుబాటు	• 1917
పౌర యుద్ధం	• 1918-20
కొమిన్టర్న్ ఏర్పాటు	• 1919
భూముల ఏకీకరణ ప్రారంభం	• 1929

1. రష్యాలో ప్రజాస్వామ్య కార్మిక పార్టీ ఏర్పడడానికి కారణమేమిటి?
2. రక్తసిక్త ఆదివారం అనే పేరు ఎందుకు వచ్చింది?
3. పౌర యుద్ధం వలన కలిగిన ఫలితం ఏమిటి?
4. పై సంఘటనలలో బోల్షీవిక్కులు ఎవరి నాయకత్వంలో పోరాడారు?

Group - B

19. సమాఖ్య రాజ్యం అంటే ఏమిటి? అమెరికా రాజ్యాంగంలోని ఏ ఏ అంశాలను భారత రాజ్యాంగ సమాఖ్య లక్షణాలలో గుర్తించవచ్చు.
20. అమెరికాలోని నల్లజాతీయులు, మైరాపైబీ ఉద్యమాల మధ్య పోలికలు, వ్రాయండి ?
21. “భాషా ప్రయుక్త రాష్ట్రాల ఆవిర్భావం జాతీయ భాష ప్రాధానతపై ప్రభావం చూపిందని మీరు భావిస్తున్నారా? మీ సమాధానాన్ని సమర్థించండి.
22. సామాజిక ఉద్యమాల మౌళిక అంశాలను ప్రజలకు తెలపాలని మీరు తయారుచేసే పోస్టర్ లో ఏ ఏ అంశాలను పొందుపరుస్తారు ?

SECTION - IV

23. మీకు ఇచ్చిన ప్రపంచ పటం నందు ఈ క్రింది వాటిని గుర్తించండి.

5 X 1 = 5



- ఎ) 1. బ్రిటన్      2. వియత్నాం      3. చైనా      4. జపాన్      5. న్యూయార్క్

(లేదా)

- బి) 1. ఫ్రాన్స్      2. జర్మనీ      3. క్యూబా      4. అమెరికా      5. ఇండియా

This Question paper contains 4 Printed Pages.

## SOCIAL STUDIES, Paper-II

(Telugu version)

### Parts A and B

Time : 2 ½ Hours ]

[ Maximum Marks : 50

### Part - B

Time : 30 minutes

Marks : 15

Note : 1. Answer all the questions.

2. Each question carries ½ mark.

3. For questions from 1 to 20, answers are given under A, B, C and D. Candidate must use the CAPITAL LETTERS while answering the multiple choice questions.

4. Marks will **not** be awarded in case of any over-writing, re-writing or erased answers.

Note : Answer the following questions in the space provided and **attach** it to the main answer book of Part - A.

సూచన : ఈ క్రింది వానికి సరియైన సమాధానమును ఎన్నుకుని ఎదురుగా గల బ్రాకెట్లలో వ్రాయండి.

20 × ½ = 10

1. ఈ క్రింది వానిలో ఐక్యరాజ్య సమితిలో శాశ్వత సభ్యదేశాలు

( )

(A) ఫ్రాన్స్, ఇంగ్లాండ్, జర్మనీ, చైనా, రష్యా

(B) చైనా, రష్యా, ఫ్రాన్స్, ఇంగ్లాండ్, ఇటలీ

(C) చైనా, రష్యా, ఫ్రాన్స్, ఇంగ్లాండ్, హాలండ్

(D) ఫ్రాన్స్, చైనా, అమెరికా సంయుక్త రాష్ట్రాలు, ఇంగ్లాండ్, రష్యా

2. ప్రస్తుతం ఒక దేశం రెండ దేశంతో దురహంకారపూరితంగా ప్రవర్తిస్తే రెండవ దేశం

ఈ విధంగా చేయాలి

( )

(A) తాను కూడా దురహంకార పూరితంగా వ్యవహరించాలి

(B) ఇచ్చి వుచ్చుకునే ధోరణిని ప్రదర్శించాలి.

(C) సైన్యాన్ని, ఆయుధ సామాగ్రిని పెంచుకోవాలి.

(D) రాజకీయ చర్యల ద్వారా శాంతియుతంగా పరిష్కరించుకోవాలి.

3. ఆధునిక కాలంలో మహిళలు కేవలం కుటుంబ బాధ్యతలకు మాత్రమే పరిమితం కారాదు. ఎందుకంటే ? ( )

(A) మహిళలు సమాజంలో సగం ఉన్నారు.

(B) మగవారితో సమానంగా స్త్రీలకు హక్కులున్నాయి.

(C) సమాజ అభివృద్ధిలో మహిళలు కూడా పాల్గొనాలి.

(D) మహిళలకు సమానం ఎక్కువ

4. క్రింద పేర్కొన్న జర్మనీ నియంత హిట్లర్ చర్యలతో నీవు దేనిని ప్రశంసిస్తావు. ( )

(A) ఆర్యజాతి ఆధిపత్యం నెలకొల్పుతానని వాగ్దానం చేయడం

(B) ప్రజలను కదిలించే అద్భుత ప్రసంగాలు ఇవ్వడం

(C) రాజకీయ ప్రత్యర్థులను అరెస్ట్ చేయడం.

(D) పొరుగు దేశాలతో యుద్ధాలు చేయడం.

5. ఈ క్రింది సంఘటనల సరియైన కాలక్రమమేది ? ( )
1. సన్-యట్-సేన్ మరణం
  2. నైజీరియా స్వాతంత్ర్యం పొందడం
  3. మావో లాంగ్‌మార్చ్ నిర్వహణ
  4. వియత్నాం కమ్యూనిస్ట్ పార్టీ ఏర్పాటు
- (A) 1,2,3,4 (B) 1,4,3,2 (C) 2,3,4,1 (D) 3,4,2,1
6. అమెరికా అంతటి బలమైన దేశమును వియత్నాం వంటి చిన్న దేశం ఎదిరించడానికి ప్రధాన కారణం ( )
- (A) వియత్నాం రైతాంగ పోరాట పటిమ
  - (B) వియత్నాంకు ఉన్న శక్తిని అంచనా వేయడంలో అమెరికా పొరబడడం
  - (C) వియత్నాం వ్యతిరేకంగా అమెరికాలో చెలరేగిన నిరసనలు
  - (D) వియత్నాం ప్రజలలోని జాతీయ భావం, దేశభక్తి
7. నైజీరియాలోని చమురు వనరులలో అధికభాగం ఆగ్నేయ భాగంలో ఉన్నాయి. చమురు లాభాలలో అధిక భాగం తమకు చెందాలని ఆ ప్రాంత ఈబూలు భావిస్తారు. ఈ సమస్యకు సరైన పరిష్కారం ఏమిటి. ( )
- (A) చమురు లాభాలు బహుళజాతి కంపెనీలకు పొందటం
  - (B) ఆ ప్రాంత ప్రజలే అధిక లాభాలు పొందటం
  - (C) ఒక ప్రాంత సహజ వనరులను ఆ ప్రాంత అభివృద్ధికే ఉపయోగించడం.
  - (D) సహజ వనరులు దేశ సంపద కాబట్టి దేశ ప్రజలందరికి చెందటం.
8. “ఇరవయ్యవ శతాబ్దపు అత్యంత ముఖ్యమైన వ్యక్తిగా మహాత్మాగాంధీ గుర్తింపు పొందారు” ఎందుకనగా? ( )
- (A) శాసనోల్లంఘన ఉద్యమం నిర్వహించడం
  - (B) క్విట్ ఇండియా ఉద్యమం నిర్వహించడం
  - (C) సత్యాగ్రహం, అహింసా మార్గాల ద్వారా ప్రపంచ ప్రసిద్ధి చెందిన స్వాతంత్ర్య ఉద్యమాన్ని నడపడం
  - (D) ఉద్యమ కాలంలో పలుమార్లు జైలు శిక్ష అనుభవించడం.
9. “ఐక్య రాజ్య సమితిలో అయిదు శాశ్వత సభ్యదేశాలకు ఇచ్చిన ప్రత్యేక అధికారాలు అప్రజాస్వామికం” ఎందుకంటే? ( )
- (A) ప్రత్యేక అధికారాలు గల ఈ ఐదు దేశాలతో శాంతిస్థాపన సాధ్యం కాదు.
  - (B) ప్రజాస్వామ్య దేశాల మనుగడ నిర్ణయం మీద ఆధారపడి ఉంది
  - (C) తమ ఆదేశాలను పాటించేలా ఐక్యరాజ్య సమితిపై ఒత్తిడి చేస్తాయి.
  - (D) పైవన్నీ

10. ప్రపంచ శాంతికి సంబంధించిన కరపత్రంలో ఉండదగిన అంశం ( )
- (A) మలేరియా నిర్మూలన  
(B) పేదరికాన్ని నిర్మూలించుట  
(C) వివాదాలను శాంతియుత చర్యల ద్వారా పరిష్కరించుట  
(D) స్త్రీ, శిశు అక్రమ రవాణా నిరోధం
11. ఈ క్రింది పార్టీలలో “హిందీ వ్యతిరేక ఆందోళన” చేపట్టిన పార్టీ ( )
- (A) ఆల్ ఇండియా ద్రవిడ మున్నేట్రకజగం  
(B) ద్రవిడ మున్నేట్రకజగం  
(C) జన సంఘ్  
(D) సోషలిస్ట్ పార్టీ
12. క్రమం తప్పకుండా 5 సంవత్సరాలకు ఒకసారి ఎన్నికలు జరగడం వల్ల కలిగే పరిణామం ( )
- (A) ప్రజల సమయం వృథా అవుతుంది.  
(B) ఎన్నికల వ్యయం ఎక్కువ అవుతుంది.  
(C) అధికారం ఒకరి చేతిలోనే కేంద్రీకృతం అవుతుంది.  
(D) అధికారం ఒకరి చేతిలోనే కేంద్రీకృతం అయ్యే అవకాశం ఉండదు.
13. ఈ క్రింది వానిలో ఓటు హక్కు వినియోగానికి సంబంధించిన నినాదం కానిది ( )
- (A) ఓటరు చేతికి బ్రహ్మాస్త్రం - ఓటు హక్కు  
(B) అవినీతి పరులకు ఓటు, దేశానికి చేటు  
(C) ఓటుకు నోటు  
(D) ప్రలోభాలకు లోనుకావద్దు - స్వేచ్ఛగా ఓటు వేయండి.
14. ప్రస్తుత సామాజిక ఉద్యమాలలో మౌఖిక అంశం కానిదేది? ( )
- (A) న్యాయం  
(B) కుటుంబం నియంత్రణ  
(C) మానవ హక్కులు  
(D) ప్రజాస్వామ్యం
15. కింది వానిలో దూబగుంట మహిళలు చేసిన ఉద్యమం ( )
- (A) నర్మదా బచావో ఆందోళన  
(B) మైరాపైబీ ఉద్యమం  
(C) సారా వ్యతిరేక ఉద్యమం  
(D) ధర్మల్ విద్యుత్ వ్యతిరేక ఉద్యమం
16. క్రింది అంశాలలో పౌరహక్కుల ఉద్యమాల విలువలలో ముఖ్యమైనది ? ( )
- (A) వర్గ, వర్ణ వివక్షతను వ్యతిరేకించుట  
(B) సమాన హక్కులకోసం పోరాటం  
(C) స్వేచ్ఛా పూరిత భావ ప్రకటన  
(D) A మరియు B

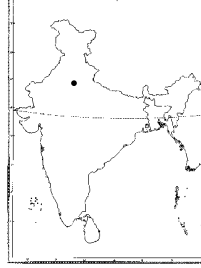
17. క్రింది వారిలో సమాచార హక్కు చట్టానికి జవాబుదారిగా ఉండే వారు. ( )

1. కేంద్ర సమాచార కమీషనర్
2. రాష్ట్ర సమాచార కమీషనర్
3. ఎన్నికల అధికారి
4. మేయర్

(A) 2, 4 (B) 1, 3 (C) 1, 2 (D) 2, 3

18. ప్రక్క పటంలోని గుర్తు దేనిని సూచిస్తున్నది ( )

- (A) ముంబాయి
- (B) కోల్కతా
- (C) ఢిల్లీ
- (D) హైదరాబాద్



19. లోక్ అదాలత్ ఏర్పాటులో పొందుపరచని అంశం ( )

- (A) కోర్టు రుసుము
- (B) విచారణ త్వరితగతిన
- (C) న్యాయమూర్తితో నేరుగా సంప్రదించడం
- (D) గ్రామ పెద్దల పంచాయితీ తీర్పును అంగీకరించడం

20. పర్వావరణ ఉద్యమంగా చిప్కో ఉద్యమం గుర్తింపు పొందడానికి కారణం ( )

- (A) అడవులను తరిగిపోకుండా చూడడం
- (B) సహజ వనరులను కాపాడడం
- (C) నదీజలాలు కలుషితం కాకుండా చేయడం
- (D) మొక్కలు పెంచడం.

II. ఈ క్రింది ఖాళీలను పూరింపుము. 5 x ½ = 2½

21. నాజీల రహస్య పోలీసు దళాన్ని ..... అంటారు.
22. రెండవ ప్రపంచయుద్ధంలో అణుబాంబుల దాడిని గుర్తించిన హిరోషిమా, నాగసాకి పట్టణాలు ..... దేశానికి చెందినవి.
23. రెండవ ప్రపంచ యుద్ధానికి ప్రధాన కారణంగా ..... పేర్కొంటారు.
24. ఆధునిక చైనా నిర్మాతగా ..... ను పేర్కొంటారు.
25. “సారే జహాసే అచ్చా” గేయాన్ని ..... రచించారు.

III. జతపరచండి. 5 x ½ = 2½

- |  |     |         |
|--|-----|---------|
| 26. రాజ్యాంగాన్ని ఆమోదించిన సంవత్సరం         | ( ) | a) 1953 |
| 27. రాష్ట్రాల పునర్ వ్యవస్థీకరణ సంఘం ఏర్పాటు | ( ) | b) 1971 |
| 28. క్విట్ ఇండియా                            | ( ) | c) 1974 |
| 29. గ్రీన్ పీస్ ఉద్యమం                       | ( ) | d) 1969 |
| 30. సమాచార హక్కు చట్టం                       | ( ) | e) 1942 |
|  |     | f) 1949 |
|  |     | g) 2005 |
|  |     | h) 2008 |

## మాదిరి పబ్లిక్ పరీక్షా ప్రశ్నా పత్రము - పేపర్ - 2

### సమాధాన పత్రాల మూల్యాంకన సూచికలు

#### I. సంక్షిప్త సమాధాన ప్రశ్నలు.

5 × 2 = 10

1వ ప్రశ్న:	ఏవైనా నాలుగు కారణాలు వ్రాస్తే	-	2 మా (4 × 1/2 = 2)
2వ ప్రశ్న:	ఐక్యరాజ్య సమితి ఏర్పాటు	-	1 మా
	అభిప్రాయం	-	1 మా
3వ ప్రశ్న:	ఒక్కో జవాబుకు 1 మార్కు	-	2 మా (2 × 1 = 2)
4వ ప్రశ్న:	ఒక్కో జవాబుకు 1 మార్కు	-	2 మా (2 × 1 = 2)
5వ ప్రశ్న:	నాలుగు అంశాలతో వివరణ	-	2 మా (4 × 1/2 = 2)
6వ ప్రశ్న:	రాజకీయ అనిశ్చితి వివరణ	-	1 మా
	అభిప్రాయం చెప్పడం	-	1 మా
7వ ప్రశ్న:	ఒక్కో జవాబుకు 1 మార్కు	-	2 మా (2 × 1 = 2)
8వ ప్రశ్న:	న్యాయ సేవలు వివరణ	-	2 మా

#### II. లఘు సమాధాన ప్రశ్నలు.

4 × 1 = 4

9వ ప్రశ్న:	ఏవైనా రెండు మౌళిక ఆదర్శాలు	-	1 మా (1/2 + 1/2)
10వ ప్రశ్న:	ఏవేని 2 సూచికలు	-	1 మా (1/2 + 1/2)
11వ ప్రశ్న:	2 శిభిరాల పేర్లు	-	1 మా (1/2 + 1/2)
12వ ప్రశ్న:	పటం చూచి జవాబు వ్రాయడం	-	1 మా
13వ ప్రశ్న:	అభిప్రాయం చెప్పడం	-	1 మా (1/2 + 1/2)
14వ ప్రశ్న:	ఏవేని 2 మంచి లక్షణాలు చెప్పడం	-	1 మా (1/2 + 1/2)

#### III. వ్యాసరూప ప్రశ్నలు :

4 × 4 = 16

15వ ప్రశ్న:	ప్రపంచ యుద్ధాల వివరణ	-	1 మా
	కారణాలు చెప్పడం	-	3 మా
16వ ప్రశ్న:	మత ప్రాముఖ్యత గురించి 8 అంశాలు	-	4 మా (8 × 1/2 = 4)
17వ ప్రశ్న:	రసాయనిక ఆయుధాల వినియోగం	-	1 మా
	అభిప్రాయం చెప్పడం	-	3 మా
18వ ప్రశ్న:	8 అంశాలు గల వ్యాసం	-	4 మా (8 × 1/2 = 4)

19వ ప్రశ్న:	8 సూత్రాల వివరణ	-	4 మా	(8 × ½ = 4)
20వ ప్రశ్న:	పోలికలు చెప్పడం	-	2 మా	
	భేదాలు చెప్పడం	-	2 మా	
21వ ప్రశ్న:	జాతీయ భాష ప్రాధాన్యత	-	2 మా	
	అభిప్రాయం చెప్పడం	-	2 మా	
22వ ప్రశ్న:	8 అంశాలు	-	4 మా	(8 × ½ = 4)

**IV. పటనైపుణ్యాలు**

**5 × 1 = 5**

ప్రపంచ పటంలో 5 అంశాలు గుర్తింపు - 5 మా

**పార్ట్ - బి**

బహుశైలిక ప్రశ్నలు :

20 × ½ = 10

1వ ప్రశ్న	D	½ మా
2వ ప్రశ్న	D	½ మా
3వ ప్రశ్న	D	½ మా
4వ ప్రశ్న	B	½ మా
5వ ప్రశ్న	B	½ మా
6వ ప్రశ్న	D	½ మా
7వ ప్రశ్న	D	½ మా
8వ ప్రశ్న	C	½ మా
9వ ప్రశ్న	D	½ మా
10వ ప్రశ్న	C	½ మా
11వ ప్రశ్న	B	½ మా
12వ ప్రశ్న	D	½ మా
13వ ప్రశ్న	C	½ మా
14వ ప్రశ్న	B	½ మా
15వ ప్రశ్న	C	½ మా
16వ ప్రశ్న	D	½ మా
17వ ప్రశ్న	C	½ మా
18వ ప్రశ్న	C	½ మా
19వ ప్రశ్న	D	½ మా
20వ ప్రశ్న	C	½ మా



ఖాళీలు పూరించుట :

$$5 \times \frac{1}{2} = 2 \frac{1}{2}$$

- 21వ ప్రశ్న - గెస్టాపో
- 22వ ప్రశ్న - అమెరికా
- 23వ ప్రశ్న - హిట్లర్ పోలండ్ పై దాడి
- 24వ ప్రశ్న - సన్-యట్-సేన్
- 25వ ప్రశ్న - మహ్మద్ ఇక్బాల్

జతపరుచుము :

$$5 \times \frac{1}{2} = 2 \frac{1}{2}$$

- 26వ ప్రశ్న - F
  - 27వ ప్రశ్న - A
  - 28వ ప్రశ్న - E
  - 29వ ప్రశ్న - B
  - 30వ ప్రశ్న - G
-

**SOCIAL STUDIES**

**Class - X**

**Model Unit Question Paper  
(English Medium)**

# MODEL UNIT QUESTION PAPER

Class : X

Sub: Social Studies

## 1. Academic Standards Weightage Table

S.No.	Academic Standard	Questions	Marks	%
1.	Conceptual Understanding	9	10	40
2.	Reading the text, understanding and interpretation	2	2½	10
3	Information skills	1	4	16
4	Reflection on contemporary issues and questioning	3	2½	10
5	Mapping skills	1	4	16
6	Appreciation and Sensitivity	1	2	08
	Total	17	25	100

## 2. Questions Weightage Table

S.No.	Type of Questions	Questions	Marks	%
1.	Essay Type	3	12	48
2.	Short Answer	3	6	24
3.	Very Short Answer	3	3	12
4.	Multiple Choice	8	4	16
	Total	17	25	100

### 3. Content Weightage Table

S.No.	Content	Questions	Marks	%
1.	Climate of India	5	7½	30
2.	Indian Rivers and Water Resources	5	4½	18
3.	The World Between Wars (1900-1950) (Part- II)	6	9	36
4.	Mapping Skills	1	4	16
	Total	17	25	100

### 4. Difficulty Level Weightage Table

S.No.	Difficulty Level	Questions	Marks	%
1.	Difficult Questions	4	4	16
2.	General Questions	6	14	56
3.	Easy Questions	7	7	28
	Total	17	25	100

# MODEL UNIT QUESTION PAPER - BLUE PRINT

Class : X

Sub: Social Studies

S.No.	Name of the Lesson	Academic Standards																								Total Questions	Total Marks	%
		Conceptual understanding				Reading the text, understanding				Information skills				Reflection of contemporary issues and				Mapping skills				Appreciation and Sensitivity						
		E	S	V	O	E	S	V	O	E	S	V	O	E	S	V	O	E	S	V	O	E	S	V	O			
1	Climate of India		1 (2)		2 (½)				1 (½)	1 (4)															5	7½	30	
2	Indian Rivers and Water Resources				2 (½)											1 (1)								1 (2)	5	4½	18	
3	The World Between Wars (1900-1950) Part - II	1 (4)		1 (1)	2 (½)		1 (2)									1 (1)									6	9	36	
4	Mapping Skills																			1 (4)					1	4	16	
	<b>Total Questions</b>	1	1	1	6		1		1	1						2	1	1					1	17	25	100		
	<b>Total Marks</b>	4	2	1	3		2		½	4						2	½	4					2		25			
	<b>%</b>	<b>40</b>				<b>10</b>				<b>16</b>				<b>10</b>				<b>16</b>				<b>8</b>				<b>100</b>		

## MODEL UNIT QUESTION PAPER CONTENT WISE ANALYSIS

S.No.	Lesson	Type of Ques.	Academic Stands.	Difficulty Level	Marks	Q.No.
1	Climate of India	Short	C.U.	General	2	1
2	Indian Rivers...	Short	A.S.	General	2	2
3	World Wars...	Short	R.U.I.	Difficul	2	3
4	World Wars...	Very Short	C.U.	General	1	4
5	World Wars...	Very Short	R.C.Q.	General	1	5
6	Indian Rivers...	Very Short	R.C.Q.	Difficul	1	6
7	World Wars...	Eassy	C.U.	General	4	7
8	Climate of India	Eassy	I.S.	Easy	4	8
9	Climate of India	Eassy	M.S.	General	4	9
10	Climate of India	Objective	C.U.	Difficul	½	10
11	Indian Rivers...	Objective	C.U.	Easy	½	11
12	Climate of India	Objective	R.U.I.	Easy	½	12
13	Indian Rivers...	Objective	R.C.Q.	Difficul	½	13
14	Climate of India	Objective	C.U.	Easy	½	14
15	World Wars...	Objective	C.U.	Easy	½	15
16	Indian Rivers...	Objective	C.U.	Easy	½	16
17	World Wars...	Objective	C.U.	Easy	½	17

# Model Unit Test Question Paper

Sub: Social Studies

Class : X

Time : 1 Hour

Marks : 25

I. Answer the following question in four or five sentences.

3 x 2 = 6

1. Do you think deforestation is harmful to the environment? Even if there is no forest in your locality what about the condition of trees?
2. Prepare a 'logo' to represent "water conservation".
3. Read the Given text to answer the question.

" Russian revolution gave the beginning of the great experiment of building a country without exploiters like feudal lords, kings or capitalists."

**Express your views on government takeover of properties of feudal lords, capitalists after the Russian revolution.**

II. Answer the following questions in one or two sentences.

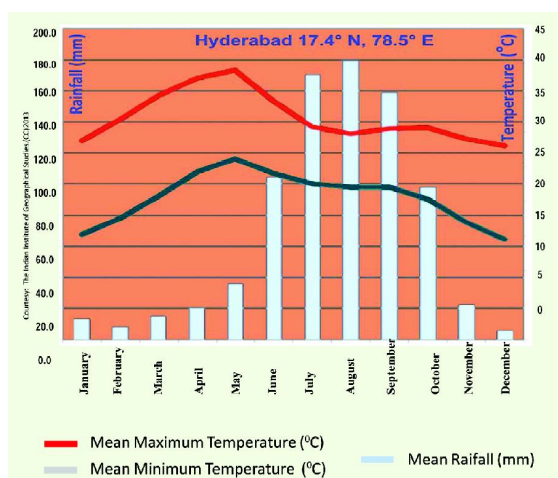
3 x 1 = 3

4. What does minimum guarantee price mean? Why do farmers expect such price?
5. Suggest certain programmes to show that women have equal rights along with men?
6. Is there any need to have restriction in usage of ground water? If so write any two reasons.

III. Answer the following in 10-15 sentences.

3 x 4 = 12

7. What does extreme inflation mean? Keeping in view of Germany incident what should a country do in order to face inflation?
8. Observe the following climograph and answer the following questions.



- a) Which month received highest rainfall?
- b) Which months experience highest and lowest temperature?

c) Why is the maximum amount of rainfall between June and October ?

d) Why is the temperature high between March and May ?

9. Locate the following in outline map of India.

a) The state that first effected by South West monsoons.

b) Flow of Godavari river.

c) Allahabad

d)  $82\frac{1}{2}^{\circ}$  East Longitudes

**IV. Choose the correct answer.**

**8 x 1/2 = 4**

10. Low pressure area means ..... ( )

(A) The area where the air gets heated up and goes up into air.

(B) The area where the air spreads over the entire area because of high temperature.

(C) Arid region where no rainfall occurs.

(D) The area that receives excessive rainfall.

11. Chambal, Sindh, Chetwa, Ken, Son rivers belongs to the following river system. ( )

(A) Sindhu (Indus)

(B) Brahmaputra

(C) Ganga

(D) Yamuna

12. "Tropical regions are close to Equator; Polar regions are close to poles". which of the following regions have more temperature ? ( )

(A) Polar regions

(B) Regions closer to Equator

(C) Temperate region

(D) Regions farther to Equator

13. Only 5% water is utilized for domestic needs. Still it is scarce to large section of people. What is your opinion on this issue? ( )



- (A) Large amount of water consumption by industries
  - (B) Wastage of water by human beings
  - (C) Improper water management methods
  - (D) All of the above
14. Rain shadow region during south west monsoon region ( )
- (A) Delhi
  - (B) Eastern part of Deccan plateau
  - (C) Kashmir
  - (D) Brahmaputra valley
15. Capitalists believe in ..... ( )
- (A) Rights of labour
  - (B) Social justice to people
  - (C) Profits - Individual properties
  - (D) Distribution of properties with labour
16. Sandoor iron ore reserves are in the following river basin. ( )
- (A) Godavari
  - (B) Sindhu (Indus)
  - (C) Tungabhadra
  - (D) Mahanadi
17. Enabling act - 1933 in Germany lead to the following consequence. ( )
- (A) Independent Country
  - (B) Colonial rule
  - (C) Economic policy
  - (D) Dictatorship rule

## Model Unit Question Paper

### Indicators for Evaluation of Answer Sheet

**I. Answer the following in four or five sentences. 3 x 2 = 6**

- |    |                     |     |
|----|---------------------|-----|
| 1. | About deforestation | 1 M |
|    | local instances     | 1 M |
| 2. | Designing of logo   | 1 M |
|    | Caption             | 1 M |
| 3. | Consequence         | 1 M |
|    | Opinion             | 1 M |

**II. Answer the following in one or two sentences. 3 x 1 = 3**

- |    |                         |                                   |
|----|-------------------------|-----------------------------------|
| 4. | Each response / comment | $\frac{1}{2} + \frac{1}{2} = 1$ M |
| 5. | Any two reasons         | $\frac{1}{2} + \frac{1}{2} = 1$ M |
| 6. | Any two limits          | $\frac{1}{2} + \frac{1}{2} = 1$ M |

**III. Essay Questions. 4 x 3 = 12**

- |    |                       |                             |
|----|-----------------------|-----------------------------|
| 7. | Economic depression   | 1 M                         |
|    | Any 6 problems        | 3 M (6 x $\frac{1}{2}$ = 3) |
| 8. | Each answer           | 1 M (4 x 1 = 4)             |
| 9. | Map pointing each one | 1 M (4 x 1 = 4)             |

**IV. Multiple choice questions. 8 x  $\frac{1}{2}$  = 4**

- |     |   |                 |
|-----|---|-----------------|
| 10. | A | $\frac{1}{2}$ M |
| 11. | C | $\frac{1}{2}$ M |
| 12. | B | $\frac{1}{2}$ M |
| 13. | D | $\frac{1}{2}$ M |
| 14. | B | $\frac{1}{2}$ M |
| 15. | C | $\frac{1}{2}$ M |
| 16. | C | $\frac{1}{2}$ M |
| 17. | D | $\frac{1}{2}$ M |

# **SOCIAL STUDIES**

## **Class - X**

**Model Question Paper**

**Paper - I**

**(English Medium)**

**(Geography & Economics)**

# MODEL QUESTION PAPER - Paper- I

Class : X

Sub: Social Studies

## 1. Academic Standards Weightage Table

S.No.	Academic Standard	Questions	Marks	%
1.	Conceptual Understanding	23	31	40
2.	Reading the text, understanding and interpretation	3	8	10
3	Information skills	8	12	15
4	Reflection on contemporary issues and questioning	9	8	10
5	Mapping skills	3	12	15
6	Appreciation and Sensitivity	8	8	10
	Total	54	79	100

## 2. Questions Weightage Table

S.No.	Type of Questions	Questions	Marks	%
1.	Essay Type	8	32	40
2.	Short Answer	8	16	20
3.	Very Short Answer	6	6	7.5
4.	Multiple Choice	30	15	19
5.	Map Pointing	2	10	12.5
	Total	54	79	100

### 3. Difficulty Level Weightage Table

S.No.	Difficulty Level	Questions	Marks	%
1.	Difficult Questions	9	15	20
2.	General Questions	27	40	50
3.	Easy Questions	18	24	30
	Total	54	79	100

### 4. Content Weightage Table

S.No.	Content	Questions	Marks	%
1.	India : Relief Features	6	7	8.90
2.	Climate of India	3	5	6.30
3.	Indian Rivers and Water ...	4	7	8.90
4.	The People	3	5	6.30
5.	People and Settlement	6	5½	7.00
6.	People and Migration	6	6	7.60
7.	Ideas of Development	3	3	3.80
8.	Production and Employment	3	3	3.80
9.	Rampur: A village Economy	5	8	10.00
10.	Globalisation	4.	5½	7.00
11.	Food Security	6	9	11.00
12.	Sustainable Development	3	5	6.30
13.	Mapping Skills	2	10	12.60
	Total	54	79	100

# SSC MODEL QUESTION PAPER - PAPER-I - BLUE PRINT

Class : X

Sub: Social Studies

S.No.	Name of the Lesson	Academic Standards																				Total Questions	Total Marks	%				
		Conceptual understanding				Reading the text,				Information skills				Reflection of contemporary				Mapping skills							Appreciation and Sensitivity			
		E	S	V	O	E	S	V	O	E	S	V	O	E	S	V	O	E	S	V	O				E	S	V	O
1	India : Relief Features	1 (4)			2 (½)						1 (1)				1 (½)						1 (½)				6	7	8.9	
2	Climate of India	1 (4)			1 (½)							1 (½)													3	5	6.3	
3	Indian Rivers and Water ...		1 (2)		1 (½)							1 (½)	1 (4)												4	7	8.9	
4	The People				1 (½)				1 (4)						1 (½)										3	5	6.3	
5	People and Settlement			1 (1)	2 (½)		1 (2)				1 (1)				1 (½)										6	5½	7	
6	People and Migration				1 (½)	1 (2)						1 (½)			1 (½)					1 (2)		1 (½)			6	6	7.6	
	Mapping Skills															1 (5)									1	5	6.3	
7	Ideas of Development		1 (2)		1 (½)																		1 (½)		3	3	3.8	
8	Production and Employment		1 (2)		1 (½)										1 (½)										3	3	3.8	
9	Rampur : A Village Economy				1 (½)				1 (4)						1 (½)	1 (2)					1 (1)				5	8	10	
10	Globalisation	1 (4)			1 (½)										1 (½)								1 (½)		4	5½	7	
11	Food Security			1 (1)	1 (½)	1 (4)									1 (½)					1 (2)	1 (1)				6	9	11	
12	Sustainable Development...	1 (4)			1 (½)							1 (½)													3	5	6.3	
	Mapping Skills															1 (5)									1	5	6.3	
	<b>Total Questions</b>	4	3	2	14	1	2		2		2	4	1		8	2	1			2	2	4			54	79	100	
	<b>Total Marks</b>	16	6	2	7	4	4		8		2	2	4		4	10	2			4	2	2				79		
	<b>%</b>	40				10				15				10				15				10						100

This Question paper contains 4 Printed Pages.

## **SOCIAL STUDIES, Paper-I**

(English version)

### **Parts A and B**

**Time : 2 ½ Hours ]**

**[ Maximum Marks : 50**

#### **Instructions :**

1. Answer the questions under Part-A on a separate answer a book.
  2. Write the answers to the questions under Part-B on the Question Paper itself and attach it to the answer book of Part-A.
  3. Attach the given outline Map of the India with the answer book of Part-A.
- 

### **Part - A**

**Time : 2 Hours**

**Marks : 35**

#### **SECTION - I**

**5 x 2 = 10**

**Note : Answer ANY FIVE (5) Questions, choosing atleast TWO from each of the following Groups, A and B. Each question carries TWO marks.**

#### **GROUP - A**

1. Godavari is a Peninsular River which flows towards the East and merges into Bay of Bengal. Write about the features of such type of peninsular reivers.
2. "Growth of Urbanisation means not only the growth of opportunities and economical transactions to the urban people but also the growth of many problems."  
Waht is your opinion about the conditions of urbanisation ?
3. Read the following passage and answer.

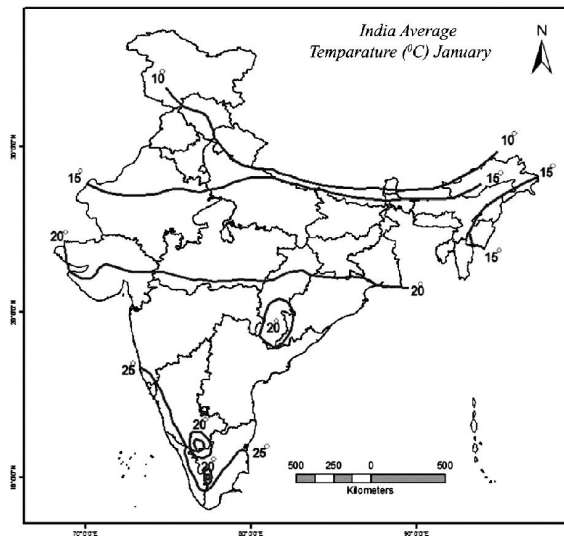
**According to the census 2001, 30.7 crores of the people migrated to other places. Migrations are done by many reasons. The basic reason for migration of women is marriage and for men it is seeking employment as per the survey of the census. Dissatisfaction about the employment opportunities in their native village, expecting better education, losses carried out in business and famers, family disputes are the reasons for migrations of the people.**

What consequences do you think would happen due to migration?

4. Suggest any four remedial measure to prevent the formation of Urban slums.

### GROUP - B

5. Do the girls of Rural and Urban areas have similar goals? Why do they have different notions on the aspects of development ?
6. How is the service sector is different from the other sectors ? Explain with some examples.
7. What elements do you incorporate while preparing a pamphlet on food security to bring about awareness among the people of your locality?
8. Observe the map of India and answer the following questions



- A) Which states maintain an average temperature of 20°C in the month of January?
- B) Why do you think the temperature decreases as we move towards northern part of India?

### SECTION - II

**Note : Answer ANY FOUR (4) Questions of the following in one or two sentences each.**

**Each question carries One marks.**

**4 X 1 = 4**

9. Why do certain places attract more settlements? Mention the reasons.
10. Write any two indicators used by Multi National Companies while selecting an industrial sight?
11. How many types of Ration Cards are there ? Write about them.
12. Write about the changes in agriculture and irrigation after providing Electricity keeping in view of Rampuram village ?
13. What is your opinion about the effects of globalization in your locality?
14. What are the benefits procured in your locality with the development of diary along with agriculture?



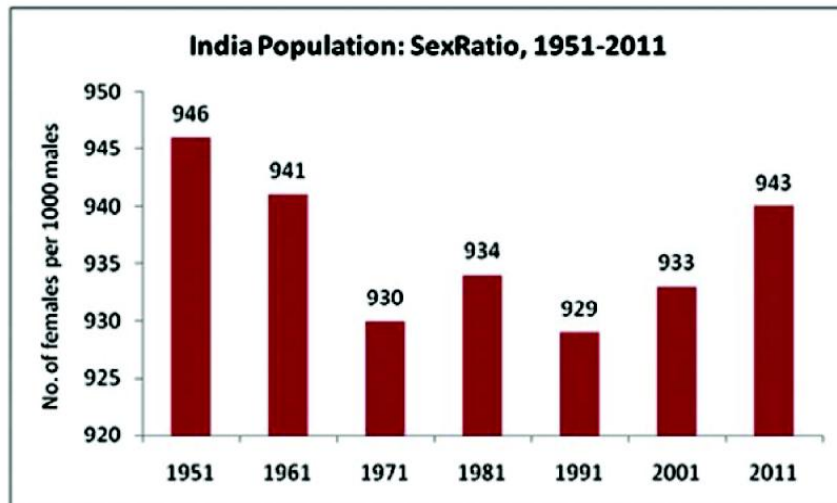
**SECTION - III**

**Note : Answer ANY FOUR (4) Questions, choosing atleast TWO from each of the following Groups, A and B. Each question carries FOUR marks.**

4 X 4 = 16

**GROUP-A**

15. What relief divisions should be observed to understand the Geographical features of India?
16. What is Global warming? What measures do you suggest to reduce the effect of global Warming?
17. Observe the graph given below and answer the questions.



- A) What does the above graph explains?
  - B) In which year, the least sex ratio is recorded ?
  - C) How was the sex ratio calculated?
  - D) How many times the female number is recorded more than 935 ?
18. In what unavoidable needs and circumstances you are purchasing water in your locality? What do you think would be the reasons for this?

**GROUP-B**

19. What are the reasons for imposing restrictions on International Trade and Investment by India? Why did India want to lift the restrictions now?
20. Supreme Court judgment on the "Ban on endosulphan stated that "usage of endosulphan is against to `Right to live` " (according to schedule 21 of Indian Constitution) How do you say it is against 'R To Live'

21. Read the table given below and answer the following questions.

Workers	Ploughing	Sowing	Weeding	Transplanting	Harvesting	Winnowing	Threshing	Picking cotton
Male	214	197	215	-	164	168	152	-
Female	-	152	130	143	126	124	118	136

- A) What are the works done only by Male workers ?
- B) What are the works done only by Female workers ?
- C) In which works, the wages are different for male and female?
- D) What are the reasons for paying less wages to female workers than male workers?
22. What is the aim of providing Right to Food Security in our country? What are your suggestions for the effective implementation of food supply at subsidy rates through public distribution system?

#### SECTION - IV

**Note : Mark the following places on the given Indian out-lined map.**

1 X 5 = 5

23.

#### GROUP-A

- A) 1) Flowing area of River Krishna  
2) Anaimudi  
3) Lakshadweep  
4) Kanyakumari  
5) Western Ghats

(OR)

#### GROUP-B

- B) 1) Sircar Coast  
2) Meeting places of Eastern and Western Ghats  
3) Pulicot Lake  
4) Tropic of cancer  
5) Indira Point

This Question paper contains 4 Printed Pages.

## SOCIAL STUDIES, Paper-I

(English version)

### Parts A and B

Time : 2 ½ Hours ]

[ Maximum Marks : 50

### Part - B

Time : 30 minutes

Marks :15

**Note :** 1. Answer *all* the questions.

2. Each question carries ½ mark.

3. For questions from 1 to 20, answers are given under A, B, C and D. Candidate must use the CAPITAL LETTERS while answering the multiple choice questions.

4. Marks will **not** be awarded in case of any over-writing, re-writing or erased answers.

**Note :** Answer the following questions in the space provided and **attach** it to the main answer book of **Part - A**.

**I. Choose the correct answer and write its letter in the brackets.**

20 × ½ = 10

**1. The longitude of Indian standard time is** ( )

(A) 98° 27" East longitude

(B) 82° 30" East longitude

(C) 92° 30" East longitude

(D) 72° 30" East longitude

**2. Which is the extreme difference between Chennai and Delhi** ( )

(A) Difference between Day and Night

(B) Day and Night temperatures

(C) Speed of the winds

(D) Direction of winds

**3. River Krishna and Godavari flows towards East. The reason is** ( )

(A) Their origin is in western Ghats

(B) Deccan Plateau is slanting towards west

(C) Bay of Bengal is located in the east.

(D) Their origin is nearer to the sea.

4. **In which year the first census was held** ( )  
(A) 1972  
(B) 1881  
(C) 1771  
(D) 1901
5. **Gannavaram airport is nearer to** ( )  
(A) Kurnool  
(B) Nellore  
(C) Gannavaram  
(D) Vijayanagaram
6. **What is the reason for non availability of jobs easily in urban areas** ( )  
(A) Lack of introducers  
(B) Heavy competition  
(C) Lack of required skills  
(D) lack of belief in new people
7. **Which of the following surveys declared that malnutrition is a major problem in Indian** ( )  
(A) National Institute of Nutrition (NIN)  
(B) Food Corporation of India (FCI)  
(C) Integrated Child Development Society (ICDS)  
(D) Public Distribution System (PDS)
8. **Gross domestic product in an economic system in one year is calculated by ( )**  
(A) Final goods and services  
(B) All Intermediate goods and services  
(C) All Intermediate and final goods  
(D) All the goods and services from foreign countries
9. **Which of these is not the factor of production** ( )  
(A) Land  
(B) Labour  
(C) Transportation  
(D) Capital
10. **Which of the organisation monitors the liberalised policies of international trade** ( )  
(A) U.N.O.  
(B) W.T.O.  
(C) W.H.O.  
(D) I.L.O.

- 11. One of the following places faced a severe drought during 1943-45. ( )**  
(A) Punjab  
(B) Gujarath  
(C) Kerala  
(D) Bengal
- 12. Chipko movement was started in the river side of ( )**  
(A) Tapti  
(B) Damodar  
(C) Narmada  
(D) Mahanadi
- 13. Migrations are commonly occur from ( )**  
(A) Urban to rural  
(B) Rural to rural  
(C) Rural to urban  
(D) Urban to urban
- 14. The main reason of increasing slum areas ( )**  
(A) Migrations of people to urban areas  
(B) Non availability of clean areas  
(C) Lack of awareness of sanitation in the migrants from rural area  
(D) Unplanned development of habitations.
- 15. The main benefit of Mid-Day-Meal Programme implementation is ( )**  
(1) Increase in the percentage of children attendance  
(2) Increase in the quality of learning and achievement of competencies  
(3) Children get nutritional food  
(4) Increase in the economical status of parents  
(A) 3 and 1 (B) 1 and 2 (C) 1 and 4 (D) 3 and 4
- 16. Mineral resources and favourable climatic conditions comes under this type of investment ( )**  
(A) Natural investment  
(B) Synthetic investment  
(C) Private investment  
(D) Public investment.
- 17. The following mountain range is the natural safe guard for our country ( )**  
(A) Aravalies  
(B) Vindhya Satpuras  
(C) Himalayas  
(D) Western Ghats

18. Due to the emergence of new Telangana state, Andhra Pradesh state lost the common boundary with ( )  
(A) Odisha  
(B) Maharashtra  
(C) Karnataka  
(D) Tamilnadu
19. The density of population of a state is calculated on the basis of ( )  
(1) Area of the State  
(2) Population  
(3) Natural Resources  
(4) Per capita income  
(A) 1 and 2 (B) 2 and 3 (C) 3 and 4 (D) 1 and 4
20. The main advantage of arrival of Multi National Companies is ( )  
(A) Employment opportunities for the people  
(B) Multi National Companies share their profits with the Government  
(C) Transportation facilities will be Developed  
(D) Costly goods available at lower prices

**II. Fill in the blanks.**

**5 x ½ = 2½**

21. South West monsoons begin in \_\_\_\_\_ state in our country.  
22. Lakshadweep are formed by \_\_\_\_\_  
23. As per 2001 census \_\_\_\_\_ state has lowest density of population.  
24. Expanded form of SEZ is \_\_\_\_\_  
25. The longest river in peninsular India is \_\_\_\_\_

**III. Match the following by writing the letter of the correct answer in the brackets choosing from the Group - B.**

**5 x ½ = 2½**

- | <b>Group - A</b>                       |     | <b>Group - B</b>         |
|--|-----|--------------------------|
| 26. Nuclear Power Plant                | ( ) | a) Aquaculture           |
| 27. Work related to unorganized sector | ( ) | b) Agriculture and diary |
| 28. Green Revolution                   | ( ) | c) Indian Food reserves  |
| 29. Rural Economic System              | ( ) | d) Tiruvanthapuram       |
| 30. Buffer stock                       | ( ) | e) Kudankullam           |
|  |     | f) Tunikaku collection   |
|  |     | g) Wheat                 |
|  |     | h) Savings in Bank       |









# **SOCIAL STUDIES**

## **Class - X**

### **Model Question Paper**

### **Paper - II**

### **(English Medium)**

### **(History & Political Life)**

# MODEL QUESTION PAPER - Paper- II

Class : X

Sub: Social Studies

## 1. Academic Standards Weightage Table

S.No.	Academic Standard	Questions	Marks	%
1.	Conceptual Understanding	22	31	40
2.	Reading the text, understanding and interpretation	3	8	10
3	Information skills	7	11	14
4	Reflection on contemporary issues and questioning	9	8	10
5	Mapping skills	5	13	16
6	Appreciation and Sensitivity	8	8	10
	Total	54	79	100

## 2. Questions Weightage Table

S.No.	Type of Questions	Questions	Marks	%
1.	Essay Type	8	32	40
2.	Short Answer	8	16	20
3.	Very Short Answer	6	6	7.5
4.	Multiple Choice	30	15	19
5.	Map Pointing	2	10	12.5
	Total	54	79	100

### 3. Difficulty Level Weightage Table

S.No.	Difficulty Level	Questions	Marks	%
1.	Difficult Questions	9	15	20
2.	General Questions	27	40	50
3.	Easy Questions	18	24	30
	<b>Total</b>	<b>54</b>	<b>79</b>	<b>100</b>

### 4. Content Weightage Table

S.No.	Content	Questions	Marks	%
1.	The World Between Wars-1	4	6	7.60
2.	The World Between Wars-2	5	4	5.10
3.	National Liberation Move...	7	12	15.00
4.	National Movement in India	4	6	7.60
5.	Post-war World and India	6	6½	8.20
6.	The Making of Indepen...	4	6½	8.20
7.	Independent Indian...	6	5	6.30
8.	Emerging Political Trends	5	9	11.00
9.	Social Movements in Our...	6	10	13.00
10.	Citizens and the Govts.	5	4	5.10
11.	Mapping Skills	2	10	12.60
	<b>Total</b>	<b>54</b>	<b>79</b>	<b>100</b>

# SSC MODEL QUESTION PAPER - PAPER-II - BLUE PRINT

Class : X

Sub: Social Studies

S.No.	Name of the Lesson	Academic Standards																				Total Questions	Total Marks	%				
		Conceptual understanding				Reading the text, interpre				Information skills				Reflection of contemporary				Mapping skills							Appreciation and Sensitivity			
		E	S	V	O	E	S	V	O	E	S	V	O	E	S	V	O	E	S	V	O				E	S	V	O
1	The World Between Wars - 1	1 (4)			1 (½)							1 (1)				1 (½)									4	6	7.6	
2	The World Between Wars - 2				2 (½)						1 (2)					1 (½)							1 (½)	5	4	5.1		
3	National Liberation Movements.		1 (2)		1 (½)						1 (4)			1 (½)	1 (4)								1 (½)	7	12	15		
4	National Movement in India	1 (4)			1 (½)											1 (½)						1 (1)		4	6	7.6		
5	Post- War World and India			1 (1)	1 (½)		1 (2)									1 (½)		1 (2)					1 (½)	6	6½	8.2		
	Mapping Skills																							1	5	6.3		
6	The Making of Independent...	1 (4)		1 (1)	1 (½)							1 (1)												4	6½	8.2		
7	Independent India...		1 (2)	1 (1)	2 (½)											1 (½)							1 (½)	6	5	6.3		
8	Emerging Political Trends...				1 (½)	1 (4)	1 (2)				1 (2)												1 (½)	5	9	11		
9	Social Movements in our Times	1 (4)			1 (½)											1 (½)			1 (½)	1 (4)			1 (½)	6	10	13		
10	Citizens and the Governments		1 (2)		1 (½)							1 (½)				1 (½)				1 (½)				5	4	5.1		
	Mapping Skills																1 (5)							1	5	6.3		
	<b>Total Questions</b>	4	3	3	12	1	2			1	2	2	2	1		8	2	1		2	1		1	6	54	79	100	
	<b>Total Marks</b>	16	6	3	6	4	4			4	4	2	1	4		4	10	2		1	4		1	3		79		
	<b>%</b>	40				10				14				10				16				10				100		

This Question paper contains 4 Printed Pages.

## SOCIAL STUDIES, Paper-II

(English version)

### Parts A and B

Time : 2 ½ Hours ]

[ Maximum Marks : 50

#### Instructions :

1. Answer the questions under Part-A on a separate answer a book.
2. Write the answers to the questions under Part-B on the Question Paper itself and attach it to the answer book of Part-A.
3. Attach the given outline Map of the World with the answer book of Part-A.

### Part - A

Time : 2 Hours

Marks : 35

#### SECTION - I

5 x 2 = 10

**Note : Answer ANY FIVE (5) Questions, choosing atleast TWO from each of the following Groups, A and B. Each question carries TWO marks.**

#### GROUP - A

1. What aspects do you think are the reasons for young Chinese fight against old traditional practices and foreign powers
2. Read the following paragraph and answer the question.

**The principle Allied countries like Britain, France, USA, USSR and China drafted a charter for the formation of the UNO even the war drew to an end. The charter not only emphasised the need to preserve peace and prevent wars, but also the need to ensure human rights, democracy and eradication of poverty and hunger for all people in the world.**

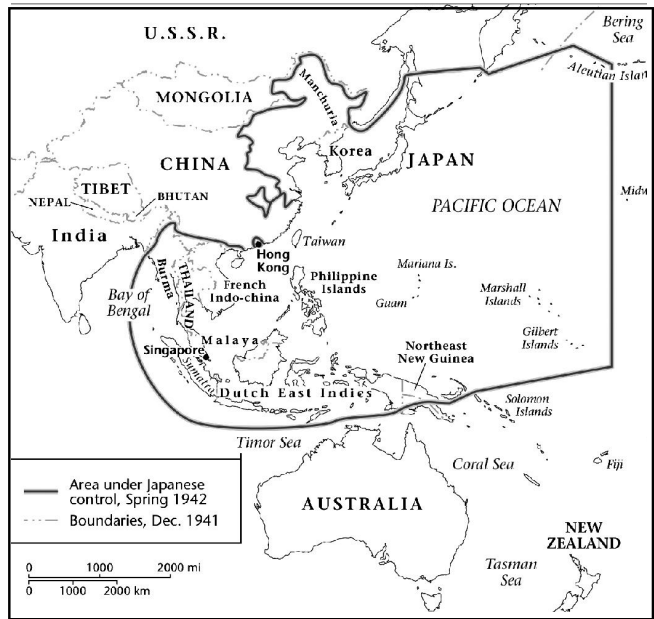
Analyse the consequences or conditions which lead to the establishment of United Nations Organization?

3. Observe the given timeline chart and answer the following questions.
  - a) Which incidents lead to the II world war ?
  - b) What were the main incidents occurred in 1941 of the World history?



4. Observe the following map and answer the questions .

- a) Name any two countries which were not under control of Japan ?
- b) Name any two regions laid to the west side of Japan which were under control of Japan ?



GROUP - B

- 5. Write about the State reorganisation committee ? What are the benefits obtained from that?
- 6. Read the following paragraph and answer the question.

**A number of national and regional parties have to come together to form Government at the centre . While this enabled the central Government to become more sensitive to multiple view points in politics and policy matters, it is also caused instability.**

“Coalition governments are responsible for the political instability” - write your comment.

7. Read the given data to answer the questions.

*Coalition Governments and some political parties from 1980's*

Governing Parties	National Front 1989-1990	Governing Parties	United Front 1996-1998	National Democratic Alliance 1998-2004	Governing Parties
JD; DMK; AGP; TDP ; Jammu & Kashmir National Conference (JKNC)		JKNC ; TDP; TMC; CPI; AGP; DMK; MGP; Samajwadi Party			JDU; SAD; AIADMK, JKNC; Trinamool Congress; Biju Janata Dal ; Shiva Sena ;
Supporting Parties		Supporting Parties			Supporting Parties
CPM; CPI, BJP		CPM			TDP

- a) The party that participated in the Governments of National Front, United Front and supported the National Democratic Alliance government from outside is ?
- b) The party that participated in the above three governments is?

8. Rangaiah is a poor farmer who wanted to protect his land from encroachment. What sort of free legal services are available in our country for the poor people like Rangaiah?

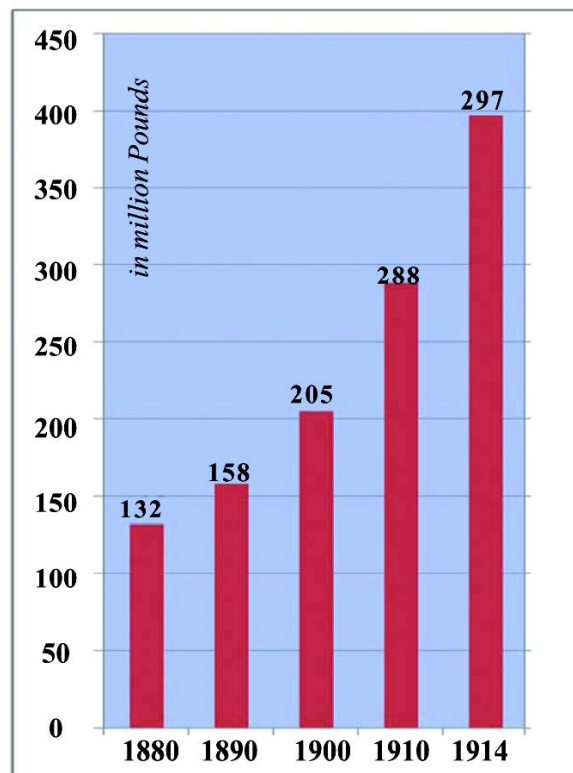
### SECTION - II

*Note : Answer ANY FOUR (4) Questions of the following in one or two sentences each.*

*Each question carries One marks.*

4 x 1 = 4

9. Liberty is a boon given by our constitution. Write about such kind ideals which were incorporated in the preamble of Indian constitution?"
10. Any nation in the world can undergo development only when it maintain proper relations with other countries? Do you agree? If so explain the foreign policies of our country to maintain proper relations?
11. What are the two ideological, political camps emerged after world war II?
12. Observe the following bar diagram which shows Military expenditure of the power blocks during 1880-1910.



What changes do you observe in the military expenditure of the power blocks for the last 30 years?

13. In the 16th General elections of Lok Sabha Bharathiya Janata Party has secured 282 seats, Indian National Congress 44, Siva Sena 18, Telugu Desam 16".

Which party has a chance to form the government ? Why?

14. What were the paths adopted by Mahatma Gandhi and Subash Chandra Bose during Indian Freedom Movement?



SECTION - III

**Note : Answer ANY FOUR (4) Questions, choosing atleast TWO from each of the following Groups,**

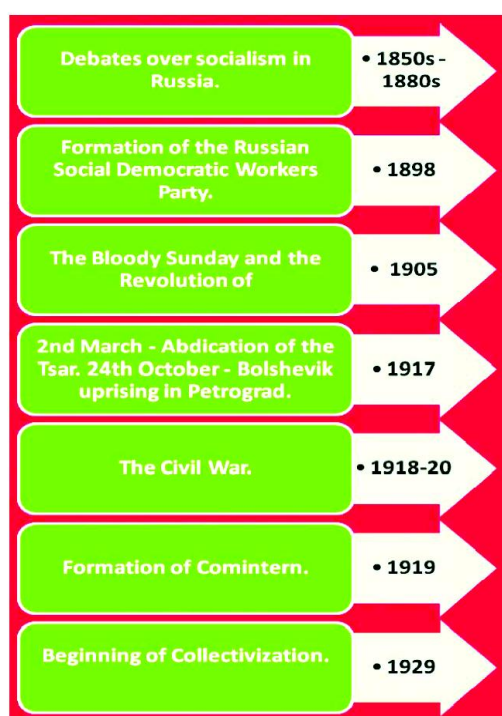
**A and B. Each question carries FOUR marks.**

**4 x 4 =16**

GROUP - A

15. Write about the main causes which are responsible for the two world wars ?
16. “Religion has been playing a prominent role since the partition of India” Write your evidences.
17. Do you think Hitler wanted to target jewes as the enemies of Germany. Why?
18. Observe the following time line chart and answer the questions.

*Timeline*



1. What is the reason behind the formation of Russian Democratic Labour Party
2. Why did the name ‘Blood shedded sunday’ come after?
3. What were the results of civil war?
4. Under whose leadership did bolshivics fight in the above incidents.

GROUP - B

19. What is meant by Federal State? What Federal characteristics of American constitution can be identified with Indian constitution?
20. Write about the similarities between the movement of blacks in USA and Miera Paibi movement.
21. Do you think that formation of linguistic states has reduced the priority of National Language. Support your opinion.
22. What are the core concepts do you incorporate in making a poster on ‘the basic elements of social movements?’

SECTION - IV

23. Locate the following places on the given out-line map of World .

5 x 1 =5



- a) 1. Britain      2. China      3. Vietnam      4. Japan      5. New York

(OR)

- b) 1. France      2. Germany      3. Cuba      4. America      5. India

This Question paper contains 4 Printed Pages.

## SOCIAL STUDIES, Paper-II

(English version)

### Parts A and B

Time : 2 ½ Hours ]

[ Maximum Marks : 50

### Part - B

Time : 30 minutes

Marks :15

**Note :** 1. Answer *all* the questions.

2. Each question carries ½ mark.

3. For questions from 1 to 20, answers are given under A, B, C and D. Candidate must use the CAPITAL LETTERS while answering the multiple choice questions.

4. Marks will **not** be awarded in case of any over-writing, re-writing or erased answers.

**Note :** Answer the following questions in the space provided and **attach** it to the main answer book of

#### Part - A.

**I. Choose the correct answer and write its letter in the brackets.**

20 × ½ = 10

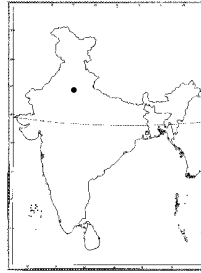
1. The permanent member countries of UNO are \_\_\_\_\_ ( )  
(A) France, England, Germany, China, Russia  
(B) China, Russia, France, England, Italy  
(C) China, Russia, France, England, Holland  
(D) France, China, USA, England, Russia
2. If a nation behaves aggressively with the other country, the second country should ( )  
(A) Also behave aggressively.  
(B) Show attitude of give and take  
(C) Increase weapons and army.  
(D) Try to solve the issue with political bilateral discussions
3. In modern times “Women should not be confined themselves only to the family responsibilities”, because ( )  
(A) Half of the population in the society are women.  
(B) Women have equal rights along with men.  
(C) Women should also participate in social development.  
(D) Women have immense patience
4. Which of the following activities of Hitler do you appreciate ( )  
(A) Declaration of establishment of racial superiority.  
(B) Best oration that moves and attracts people  
(C) Arresting political rivals.  
(D) War with neighbouring countries.

5. Arrange the incidents in suitable timeline ( )
- 1) Death of Sun-Yet-Sen
  - 2) Independence of Nigeria
  - 3) Conducting long march by Mao
  - 4) Formation of Communist party in Vietnam
- (A) 1, 2, 3, 4  
(B) 1, 4, 3, 2  
(C) 2, 3, 4, 1  
(D) 3, 4, 2, 1
6. Vietnam - a smallest country had revolted against America which is the powerful country in the World. The main reason behind this is ( )
- (A) The fighting stuff of Vietnam peasants.  
(B) American's underestimated the power of Vietnam  
(C) Protests against Vietnam in America  
(D) Nationalism, patriotism among the people of Vietnam
7. Oil resources in Nigeria are concentrated in south west region. Eebos claim large share of petroleum profits. What is the suitable solution for this ( )
- (A) Oil profits should go to Multinational Companies.  
(B) More profits should go to the people of the same region.  
(C) Natural resources of a region should be used for the development of the same region.  
(D) Natural resources are the nation's wealth show it should belong to the entire Nation.
8. Mahatma Gandhi is recognised as the prominent person of 20th century, because ( )
- (A) He led civil disobedience movement  
(B) He led Quit India Movement  
(C) Organized the world famous Freedom movement on the principles of non violence, Satyagraha  
(D) Imprisoned many times during freedom movement.
9. "Special powers to the permanent member countries of UNO is undemocratic" because ( )
- (A) It is impossible to establish world peace with these nations.  
(B) Existence of democratic countries depend on the decisions of these nations.  
(C) They influence on the UNO to accept their decisions.  
(D) Above all
10. The suitable concept for the 'pamphlet on world peace' is ( )
- (A) Eradication of Malaria  
(B) Eradication of Poverty  
(C) Settling the disputes by peaceful negotiations.  
(D) Ban on trafficking of women and children.

11. "Anti Hindi Agitations" were taken up by this party. ( )  
(A) All India Dravida Munnetra Kajagam  
(B) Dravida Munnetra Kajagam  
(C) Janasangh  
(D) Socialist Party
12. Conducting elections for every five years results in ( )  
(A) Wastage of time of the Public  
(B) More expenditure on elections  
(C) Concentration of power in single hand  
(D) No scope for the concentration of power in single person.
13. Which of the following slogan does not relate to the Right to Vote. ( )  
(A) Right to vote is the most powerful weapon of voter.  
(B) Vote for corrupt person - damage to the nation  
(C) Vote for note  
(D) Don't get bribe - cost your vote freely
14. Which of the following is not a key concept of present social movements. ( )  
(A) Justice  
(B) Family planning  
(C) Human rights  
(D) Democracy
15. The agitation led by the women of Dubagunta ( )  
(A) Agitation of "Narmada bachaavo"  
(B) Miera paibe movement  
(C) Anti arrack movement  
(D) Protest against thermal electricity.
16. Which of the following is the principle of Civil rights movements ( )  
(A) Discrimination against caste and creed.  
(B) Equal rights  
(C) Freedom of expression  
(D) A and B
17. Responsible person for Right to Information Act. ( )  
1) Central Commissioner of Information  
2) State Commissioner of Information  
3) Electoral Officer  
4) Mayor  
(A) 2, 4 (B) 1, 3 (C) 1, 2 (D) 2, 3

18. The dot given in the map represents

- (A) Mumbai
- (B) Kolkata
- (C) Delhi
- (D) Hyderabad



( )

19. Which of the following is not incorporated in Lokadalat

- (A) No court fee
- (B) Fast prosecution
- (C) Direct interaction with judge
- (D) Accepting the judgment of panchayat

( )

20. The reason for the recognition of Chipko movement as an environmental movement.

- (A) Protection of forests
- (B) Protection of natural resources
- (C) Prevention of river pollution
- (D) Plantation

( )

**II. Fill in the blanks with suitable words.**

5 x ½ = 2½

21. Nazis formed \_\_\_\_\_ as Secret police army.

22. During second World War Hiroshima and Nagasaki were attacked with nuclear bombs. These cities are belongs to \_\_\_\_\_ country.

23. According to history \_\_\_\_\_ is the Immediate cause for II World War.

24. The Architect of Modern China is \_\_\_\_\_

25. The author of "Sare Jahase accha" \_\_\_\_\_

**III. Match the following by writing the letter of the correct answer in the brackets choosing from the Group - B.**

5 x ½ = 2½

**Group - A**

**Group - B**

- |   |     |         |
|---|-----|---------|
| 26. Constitution was adopted in               | ( ) | a) 1953 |
| 27. Formation of State reorganizing Committee | ( ) | b) 1971 |
| 28. Quit India Movement                       | ( ) | c) 1974 |
| 29. Green peace movement                      | ( ) | d) 1969 |
| 30. Right to information Act                  | ( ) | e) 1942 |
|   |     | f) 1949 |
|   |     | g) 2005 |
-